

# BUNCU BEYİNLER

## 1. DENEME SINAVI

# İLKOKUL



AYRINTILI BİLGİ

[tr.tazof.org.tr](http://tr.tazof.org.tr)



tumakiloyunlari

		1	1	2			3
		1	1	1	4	1	2
	1						
2	1						
4	1						
	2						
1	1						
3	1						

Yukarıdaki oyunda, oyun doğru çözüldüğünde "ok"un gösterdiği yöndeki karelerin durumu aşağıdaki şıkların hangisinde doğru olarak verilmiştir? (Dolu olan kareler "D" boş olan kareler "B" ile gösterilmiştir.)

A- BDDBBB

B- BBDDDB

C- DBBDDDB

D- BBDDDB

•	•	•	•	•	•	•	•
•	3	•	3	•	•	•	2
•	•	•	•	•	•	2	1
•	•	•	3	•	0	•	•
•	•	•	•	1	•	3	•
•	1	•	1	•	•	•	•
•	2	•	•	•	•	1	1
•	•	•	•	•	•	•	•

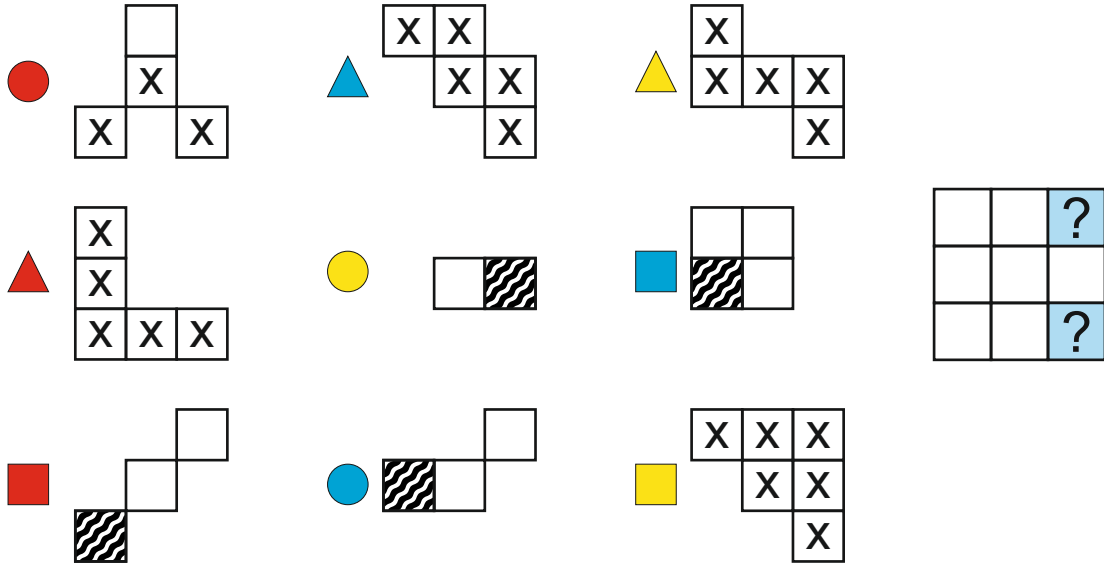
Yukarıdaki oyunda, kapalı alanın içinde kalan rakamların toplamı aşağıdaki şıkların hangisinde doğru olarak verilmiştir?

A- 15





B- 14





C- 17

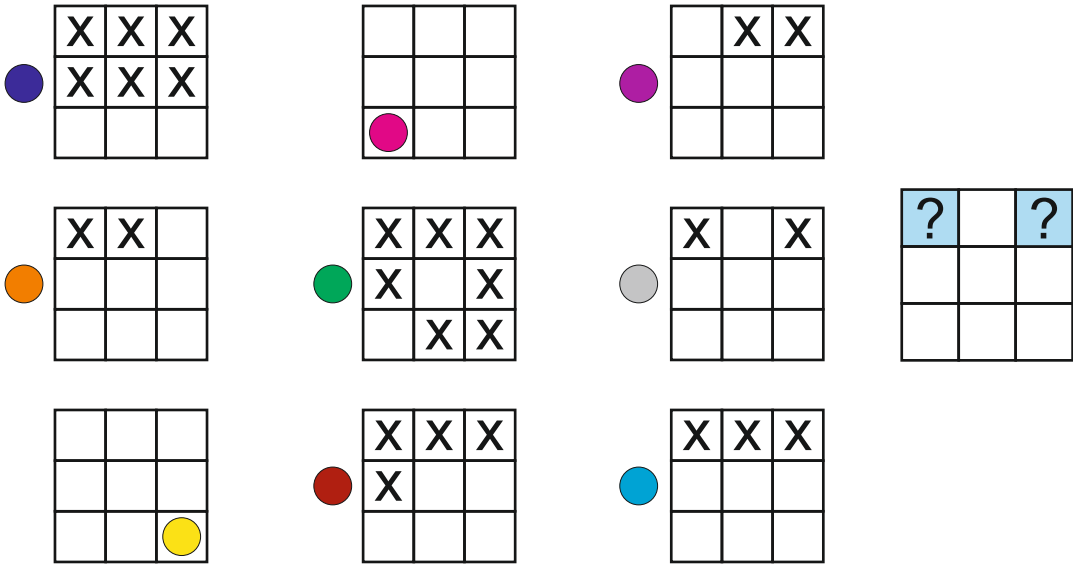
D- 21







Yukarıdaki metaforms oyununda tüm ipuçları değerlendirilerek çözüldüğünde sorunun yanındaki diyagramda yer alan soru işaretleri yerine hangi parçalar gelir?





- A-  
- C-  

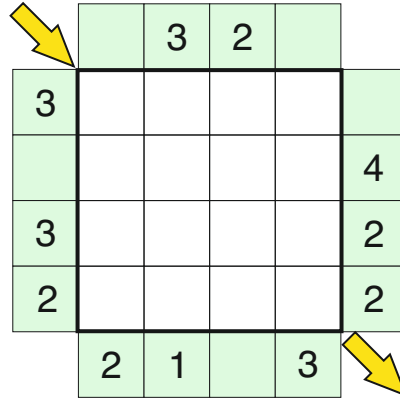
- B-  
- D-  



Yukarıdaki colours oyununda tüm ipuçları değerlendirilerek çözüldüğünde sorunun yanındaki diyagramda yer alan soru işaretleri yerine hangi renkler gelir?

- A-  
- C-  

- B-  
- D-  



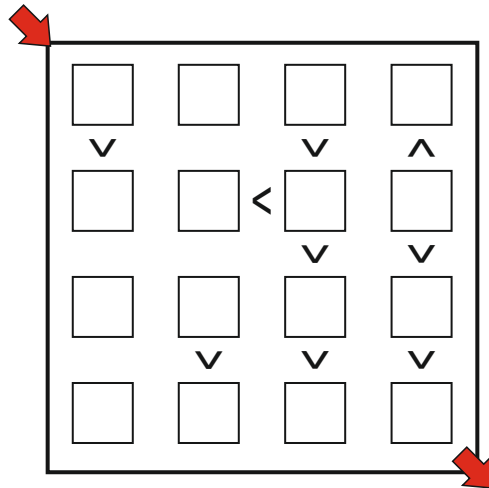
Yukarıdaki oyunda ok ile gösterilen çapraza gelecek rakamların toplamı hangi şıkta doğru bir şekilde verilmiştir?

A- 9

B- 10

C- 11

D- 12



Yukarıdaki oyunda ok ile gösterilen çapraza gelecek rakamların toplamı hangi şıkta doğru bir şekilde verilmiştir?

A- 9

B- 4

C- 7

D- 8

1-8	12	30	16	7
28				
12				
24				
5				

Yukarıdaki oyunda renkli gösterilen kutulara gelecek sayıların toplamı hangi şıkta doğru bir şekilde verilmiştir?

A- 18

B- 23

C- 19

D- 16

3+	6*		12*
	5+	2/	
1-			2/
	2-		

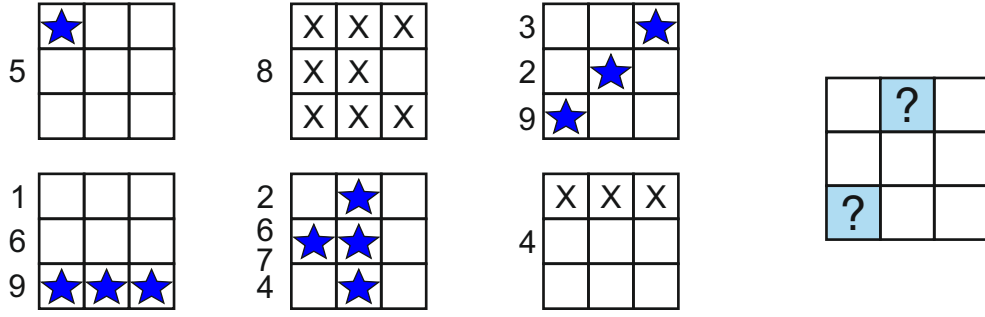
Yukarıdaki oyunda ok ile gösterilen çaprazta gelecek rakamların toplamı hangi şıkta doğru bir şekilde verilmiştir?

A- 6

B- 7

C- 8

D- 9



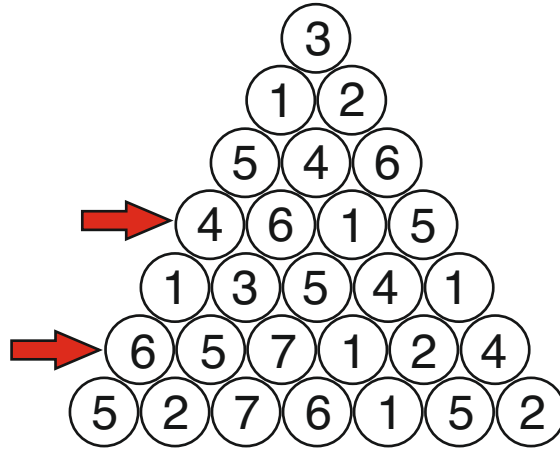
Yukarıdaki numbers oyununu tüm ipuçları değerlendirilerek çözüldüğünde sorunun yanındaki diyagramda yer alan soru işaretleri yerine gelecek sayıların toplamı kaç olur?

A- 13

B- 14

C- 15

D- 16



Yukarıdaki sihirli piramit oyunu doğru bir şekilde çözüldüğünde ok ile gösterilen satırlarda kullanılan rakamların toplamı kaç olur?

A- 8

B- 9

C- 5

D- 6

5	3		4	6	2
			5	?	
3	1			2	4
?		4		1	
1		6		4	?
2		3	1		6

Yukarıdaki sudoku oyununda soru işareti ile belirtilen hücelere gelen rakamların toplamı kaçtır?

A- 10

B- 11

C- 12

D- 13

4	2		6		5
		1			?
	3	2		5	
?			2	6	
		6		3	
	6		?		2

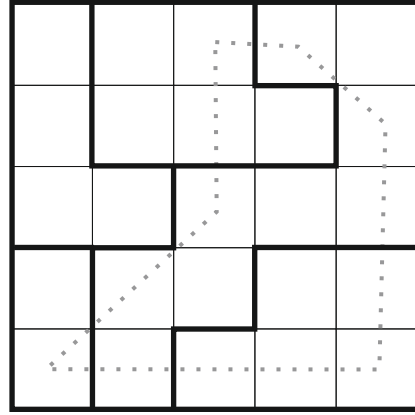
Yukarıdaki bölgesel sudoku oyununda soru işareti ile belirtilen hücelere gelen rakamların toplamı kaçtır?

A- 10

B- 9

C- 8

D- 11



Yukarıdaki yıldız savaşları oyununda çizgili noktaların üzerinden geçtiği yıldız sayısı kaçtır?

A- 1

B- 2

C- 3

D- 4

	x		+		42
+		+		/	
	+		+		16
+		+		+	
	+		+		10
10		24		4	

Yukarıdaki işlem karesi oyununda mavi ile gösterilen karelerin içine yazılacak rakamların toplamı kaçtır?

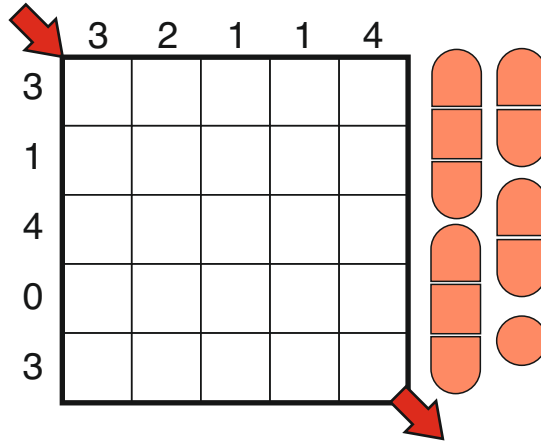
A- 15

B- 16

C- 17

D- 18





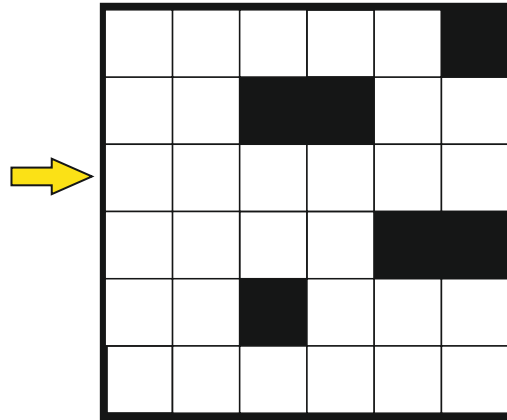
Yukarıdaki amiral battı oyunu doğru çözüldüğünde "ok" ile gösterilen çapraz hücrelerde sırasıyla neler görünür?

A- G - B - G - B - B

B- G - B - G - B - G

C- B - B - G - B - B

D- G - B - G - G - B



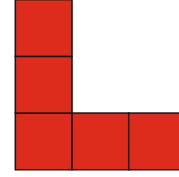
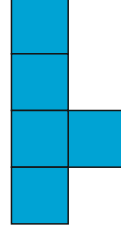
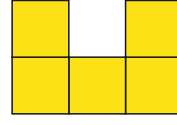

Yukarıdaki oyunda ok ile gösterilen satıra sırasıyla gelecek çizgiler hangi şıkta doğru bir şekilde verilmiştir?

A- Γ J L - - J

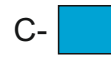
B- Γ 7 Γ | - J

C- Γ J Γ - - J

D- Γ L Γ - - L



Yukarıdaki pentomino oyunu yanda verilen pentomino parçaları ile  
çözüldüğünde soru işaretli yerde hangi renk yer alır?  
(Parçaların tamamı kullanılmak zorundadır. Parçaları istediğiniz gibi çevirebilirsiniz.)



	15	7			
11			13		
11		?		7	
	6		?		4
		15			
			3		

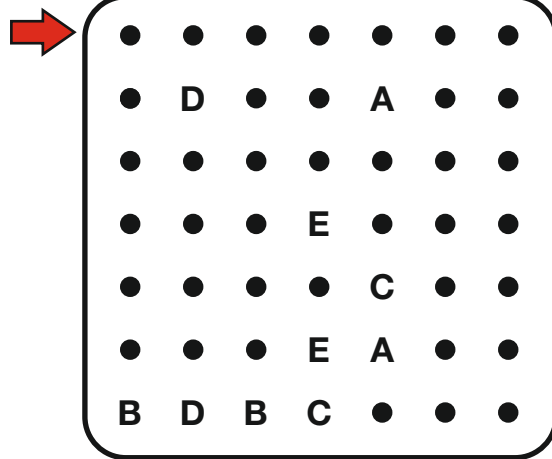
Yukarıdaki kakuro oyununda renkli karelere gelecek rakamların toplamı aşağıdaki şıkların hangisinde doğru olarak verilmiştir?

A- 5

B- 4

C- 3

D- 6



Yukarıdaki ABC Bağlama oyunu doğru olarak çözüldüğünde ok ile gösterilen satırdan hangi harflerin birbirine bağlayan çizgileri geçmektedir? (Şıklardaki harfler sıralı olmayabilir.)

A-B - D

B-C - D

C-B - C

D-A - C