

BYUNCU BEYINLER

2. DENEME SINAVI

İLKOKUL



AYRINTILI BİLGİ
tr.tazof.org.tr



tumakiloyunlari

?		2	3	1	
3	1				
2		3	6	?	
		?	5	2	
	2		1	3	
1	3		2		5

Yukarıdaki sudoku oyununda soru işareti ile belirtilen hücelere gelen rakamların toplamı kaçtır?

A- 10

B- 9

C- 8

D- 11

			6		4
4		5	3	1	?
?	2	1			3
6			1		5
	4				
	5		2	?	6

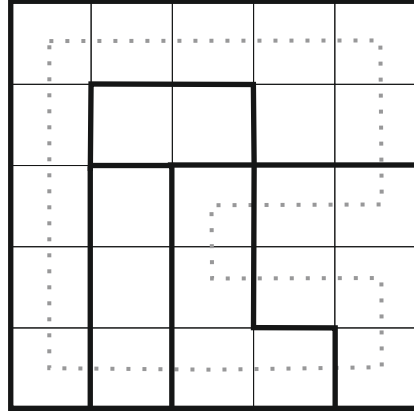
Yukarıdaki bölgesel sudoku oyununda soru işareti ile belirtilen hücelere gelen rakamların toplamı kaçtır?

A- 11

B- 12

C- 10

D- 9



Yukarıdaki yıldız savaşları oyununda çizgili noktaların üzerinden geçtiği yıldız sayısı kaçtır?

A- 3

B- 2

C- 4

D- 5

	+		-		3
x		+		+	
	+		+		24
x		+		-	
	x		x		30
27		18		10	

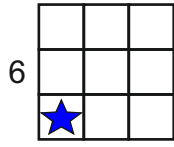
Yukarıdaki işlem karesi oyununda mavi ile gösterilen karelerin içine yazılacak rakamların toplamı kaçtır?

A- 10

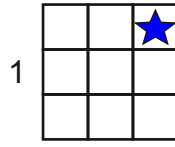
B- 11

C- 12

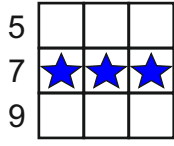
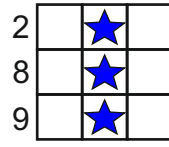
D- 9



6



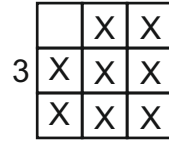
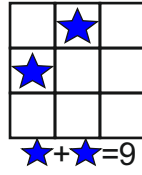
1



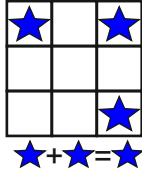
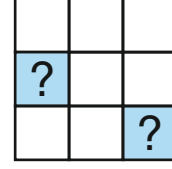
5

7

9



3



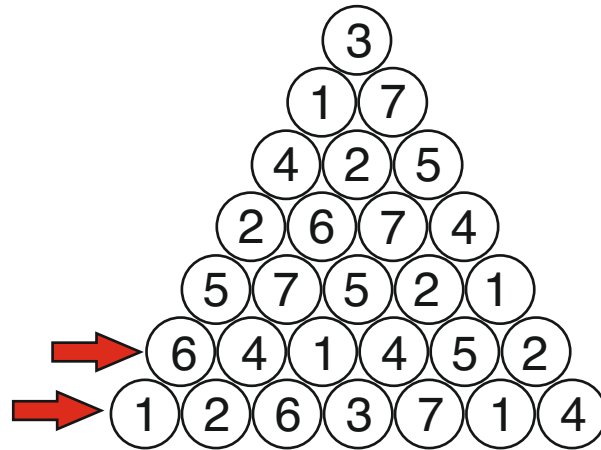
Yukarıdaki numbers oyununu tüm ipuçları değerlendirilerek çözüldüğünde sorunun yanındaki diyagramda yer alan soru işaretleri yerine gelecek sayıların toplamı kaç olur?

A- 11

B- 10

C- 12

D- 13



Yukarıdaki sihirli piramit oyunu doğru bir şekilde çözüldüğünde ok ile gösterilen satırlarda kullanılan rakamların toplamı kaç olur?

A- 11

B- 9

C- 10

D- 8

		1		2	1	
		1	3	1	3	1
	1					
3	1					
	1					
1	3					
1	1					
2	2					

Yukarıdaki oyunda, oyun doğru çözüldüğünde "ok"un gösterdiği yöndeki karelerin durumu aşağıdaki şıkların hangisinde doğru olarak verilmiştir? (Dolu olan kareler "D" boş olan kareler "B" ile gösterilmiştir.)

A- BDBDBB

B- BDDDBB

C- BDBDBD

D- BDDDBD

•	•	•	•	•	•
•	3	•	3	•	•
•	•	•	•	•	2
•	•	•	•	3	•
•	•	0	•	•	•
•	•	•	•	•	1
•	1	•	•	3	•
•	•	•	•	•	1
•	2	•	•	2	•
•	•	•	2	•	•

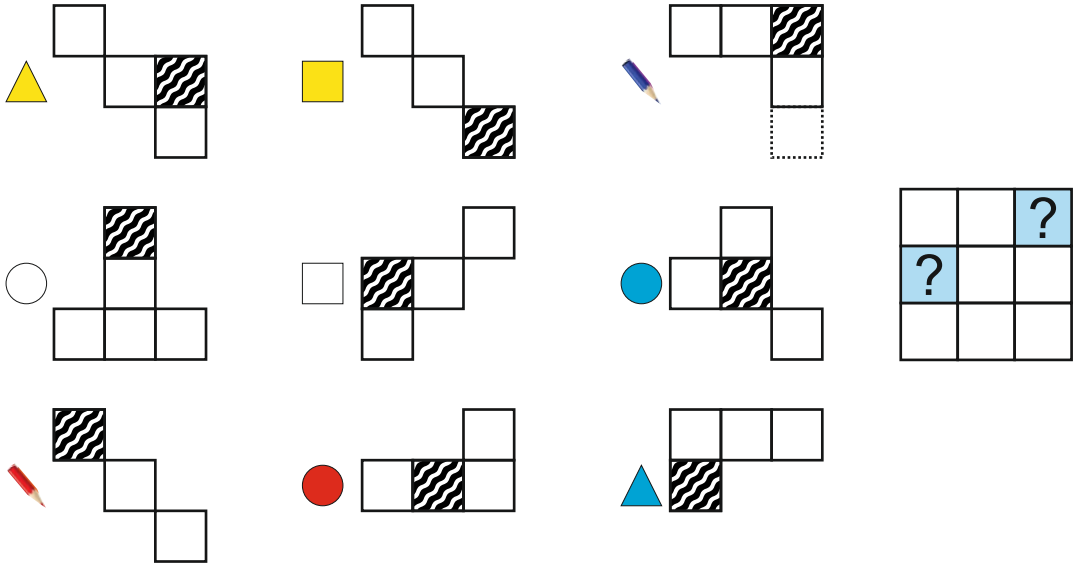
Yukarıdaki oyunda, kapalı alanın içinde kalan rakamların toplamı aşağıdaki şıkların hangisinde doğru olarak verilmiştir?

A- 13

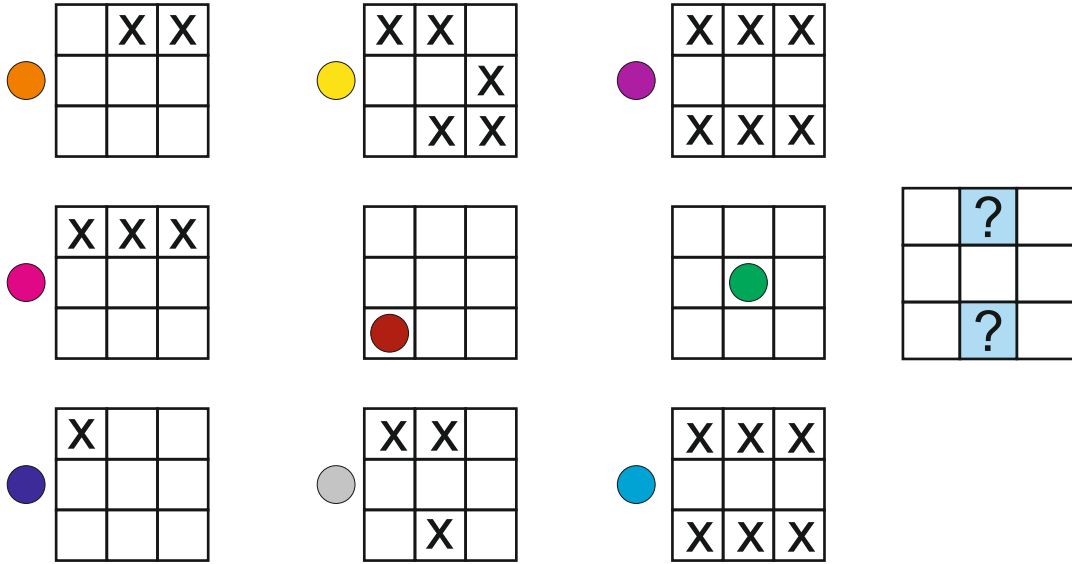
B- 14

C- 15

D- 12

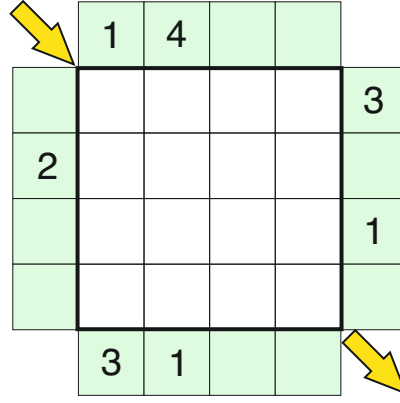


Yukarıdaki metaforms oyununda tüm ipuçları değerlendirilerek çözüldüğünde sorunun yanındaki diyagramda yer alan soru işaretleri yerine hangi parçalar gelir?



Yukarıdaki colours oyununda tüm ipuçları değerlendirilerek çözüldüğünde sorunun yanındaki diyagramda yer alan soru işaretleri yerine hangi renkler gelir?





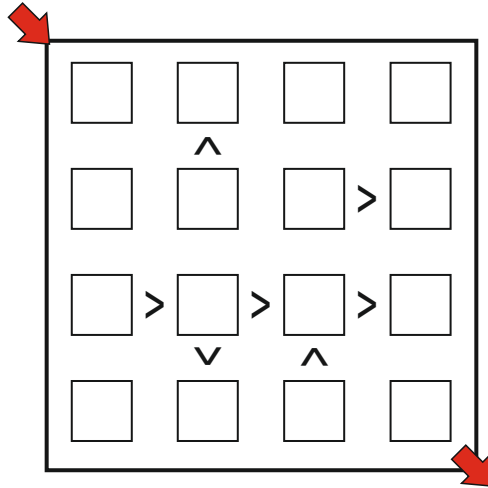
Yukarıdaki oyunda ok ile gösterilen çapraza gelecek rakamların toplamı hangi şıkta doğru bir şekilde verilmiştir?

A- 11

B- 12

C- 13

D- 14



Yukarıdaki oyunda ok ile gösterilen çapraza gelecek rakamların toplamı hangi şıkta doğru bir şekilde verilmiştir?

A- 11

B- 12

C- 13

D- 14

1-8	8	20	42	6
56				
8				
6				
15				

Yukarıdaki oyunda renkli gösterilen kutulara gelecek sayıların toplamı hangi şıkta doğru bir şekilde verilmiştir?

A- 21

B- 22

C- 20

D- 19

9+			4*
6*			
2-	4+	2/	
		12*	

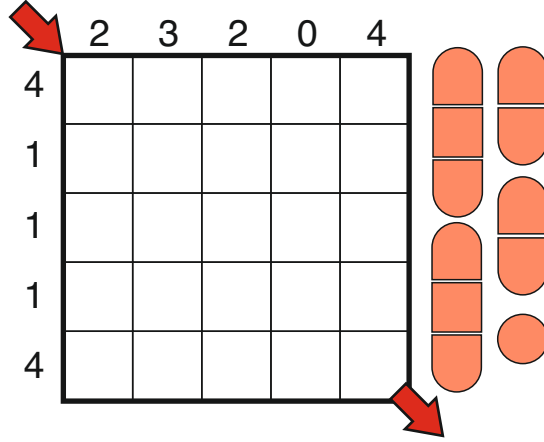
Yukarıdaki oyunda ok ile gösterilen çapraza gelecek rakamların toplamı hangi şıkta doğru bir şekilde verilmiştir?

A- 9

B- 8

C- 11

D- 10



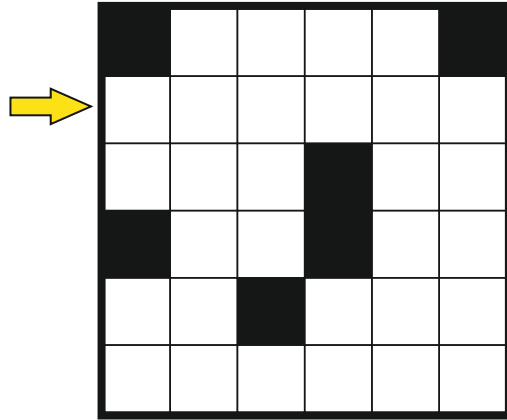
Yukarıdaki amiral battı oyunu doğru çözüldüğünde "ok" ile gösterilen çapraz hücrelerde sırasıyla neler görünür?

A- G - B - B - B - G

B- G - B - G - B - G

C- G - B - G - B - B

D- G - B - G - G - B



Yukarıdaki oyunda ok ile gösterilen satıra sırasıyla gelecek çizgiler hangi şıkta doğru bir şekilde verilmiştir?

A- Γ J L J L 7

B- Γ J Γ 7 L J

C- Γ J Γ 7 Γ J

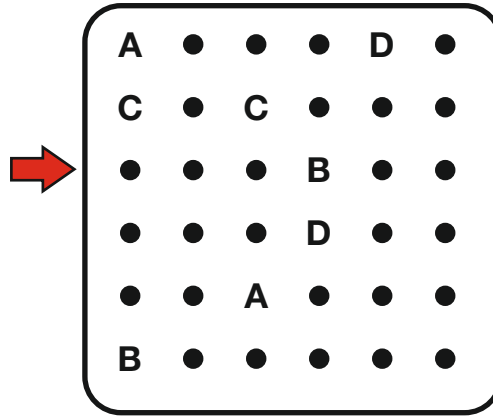
D- Γ J L J Γ J

				9	7
			4		
			7		
		13			
	19	23	12	?	
23			?		
9		?			
16					

Yukarıdaki kakuro oyununda renkli karelere gelecek rakamların toplamı aşağıdaki şıkların hangisinde doğru olarak verilmiştir?

- A- 13
C- 15

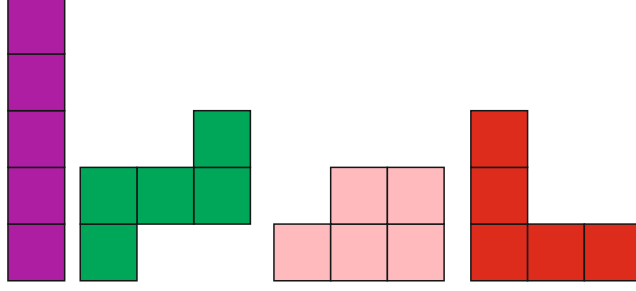

- B- 10
D- 16



Yukarıdaki ABC Bağlama oyunu doğru olarak çözüldüğünde ok ile gösterilen satırdan hangi harflerin birbirine bağlayan çizgileri geçmektedir? (Şıklardaki harfler sıralı olmayabilir.)


- A-B - D - A
C- B - D


- B-C - D - A
D-A - D



Yukarıdaki pentomino oyunu yanda verilen pentomino parçaları ile
çözüldüğünde soru işaretli yerde hangi renk yer alır?
(Parçaların tamamı kullanılmak zorundadır. Parçaları istediğiniz gibi çevirebilirsiniz.)

A- 

B- 

C- 

D- 