



3.
SINIF



A
KİTAPÇIK TÜRÜ

T.C.
MİLLÎ EĞİTİM BAKANLIĞI
ÖLÇME, DEĞERLENDİRME VE SINAV HİZMETLERİ
GENEL MÜDÜRLÜĞÜ

TED ANKARA KOLEJİ VAKFI ÖZEL İLKOKULU VE ORTAOKULU SEÇME SINAVI
(2. Sınıftan 3. Sınıfa Geçenler)
5 TEMMUZ 2020 Saat: 14.00

Adayın Adı ve Soyadı :

Aday Numarası (T.C. No) :

DERS ADI	SORU SAYISI	TOPLAM SORU SAYISI	SINAV SÜRESİ (DAKİKA)
TÜRKÇE	20	60	60
MATEMATİK	20		
HAYAT BİLGİSİ	20		

ÖĞRENCİLERİN DİKKATİNE!

1. Sınıf öğrenci yoklama listesinde belirtilen sınıfta ve sıra numarasında oturunuz.
2. Cevap kâğıdındaki kimlik bilgilerinin doğruluğunu kontrol ediniz.
3. Kitapçık türünü cevap kâğıdındaki ilgili alana kodlayınız.
4. Cevap kâğıdı üzerindeki kodlamaları kurşun kalemle yapınız.

3. SINIF 2020



SINAV BAŞLAMADAN ÖNCE KİTAPÇIĞIN ARKA KAPAĞINDAKİ UYARILARI MUTLAKA OKUYUNUZ.

1. 1. Temiz
2. Tenis
3. Temel
4. Tenha

Numaralanmış sözcüklerin alfabetik sıraya göre dizilişi aşağıdakilerden hangisidir?

- A) 3 - 1 - 2 - 4
C) 4 - 2 - 3 - 1

- B) 3 - 1 - 4 - 2
D) 4 - 2 - 1 - 3

2. "Açık" sözcüğü, aşağıdakilerin hangisinde "engelsiz, serbest" anlamında kullanılmıştır?

- A) Açıklarda yüzmek her zaman tehlikelidir.
B) İş yerimize giderken açık renkli bir elbise giymiştim.
C) Olumsuz hava şartlarına rağmen yol açtı.
D) Geceleri burada açık bir lokanta bulabiliriz.

3. Kalın demir kapının hemen yanında bekliyordu.

Bu cümledeki altı çizili sözcüğün karşıtı aşağıdakilerden hangisidir?

- A) Zayıf
C) Dar

- B) İnce
D) Uzun

4. Aşağıdakilerin hangisinde altı çizili sözcüğün eş anlamlısı ayraç içinde doğru verilmiştir?

- A) Şehrin bu kısmına bütün gün yağmur (su) yağmıştı.
B) Gençken yaptığım hataları (yanlış) senin de yapmanı istemiyorum.
C) Kısa (küçük) boyuna rağmen her işin üstesinden geliyordu.
D) Ne zaman bir iş yapmak istesek engel (sebeup) çıkartılıyor.

5. Kuşkusuz - - - - canlıların doğadaki en temel - - - - sudur.

Anlamlı bir cümle oluşturmak için boş bırakılan yerlere sırasıyla hangi sözcükler getirilmelidir?

- A) bütün - ihtiyacı
B) bir kısım - faydası
C) bazı - görüşü
D) tüm - nedeni

6. 1. sesi
2. okuyan
3. şiir
4. çocuğun

- - - - - herkesi etkiledi.

Anlamlı bir cümle oluşturmak için numaralanmış sözcükler, yukarıdaki boşluklara hangi sırayla yerleştirilmelidir?

- A) 3 - 2 - 4 - 1
B) 3 - 1 - 2 - 4
C) 4 - 1 - 2 - 3
D) 4 - 2 - 1 - 3

7. Evimiz, büyük kestane ağaçlarının arkasında kaybolmuş gibiydi. Evimizin bahçesinden, söğütler altında akan derenin şırltısını işitirdik. Küçük kardeşimle ben zamanımızın çoğunu bahçede geçirirdik.

Bu metindeki altı çizili sözcük grubu, aşağıdaki hikâye unsurlarından hangisidir?

- A) Olay B) Zaman C) Yer D) Kişi

8. (1) Gümüş gibi parlayan bu güzel kaşağının dişlerine baktım. (2) Çok keskin ve çok sivriydi. (3) Biraz körletmek amacıyla duvarın taşlarına sürtmeye başladım. (4) Dişleri bozulduğu için tekrar denedim.

Bu metinde numaralanmış cümlelerin hangisinde bir olay, nedeniyle birlikte verilmiştir?

- A) 1 B) 2 C) 3 D) 4

9. Keloğlan, işini bitirdikten sonra annesinin elini öpmek için köye gitti.

Bu cümlede aşağıdaki sorulardan hangisinin yanıtı vardır?

- A) Nasıl? B) Ne?
C) Ne kadar? D) Ne zaman?

10. Şu ağacın tepesinde
Var bir sincap
Ceviz kırar, yemek arar
- Her gün göremem ki
Saklar onu
Anne yapraklar

Bu şiirde geçen "sincap" ile ilgili aşağıdakilerden hangisine değinilmiştir?

- A) Haberleşme şekline
B) Neler yaptığına
C) Boyunun uzunluğuna
D) Hareket yeteneğine

11. Emre makinelere çok meraklı bir çocuktur. Ama öyle böyle değil! İzin verseler, tornavida setiyle tüm makineleri tek tek açacaktı. İçlerinde neler olduğunu inceleyecek sonra da parçaları birleştirip makineleri eski hâline getirecekti. Ailesi bu merakını biliyor ve ona birleştirip yeni bir şeyler ortaya çıkarabileceği oyuncaklar alıyordu. Emre bu oyuncaklarla yeni düzenekler tasarlıyordu.

Emre'nin bu metinde sergilediği kişilik özelliği aşağıdakilerden hangisi olabilir?

- A) Araştırmacı
B) Dürüst
C) Tutumlu
D) Eleştirici

12. Hediye vermenin anlamı; arkadaşımızı () kardeşimizi () dostlarımızı düşündüğümüzü göstermek değil midir () Hediye vermek bu yüzden zevkli bir iştir ()

Bu metinde ayrıca gösterilen yerlere sırasıyla aşağıdaki noktalama işaretlerinden hangileri getirilmelidir?

- A) (,) (.) (!) (.)
B) (!) (,) (.) (!)
C) (,) (,) (?) (.)
D) (!) (.) (?) (!)

13. Aşağıdakilerden hangisinde büyük harflerin kullanımıyla ilgili bir yazım yanlışı yapılmıştır?

- A) Ramazan Bayramı'ndan sonra okullar açılacak.
B) Konserler 14 ekim 2020'de başlayacak.
C) Sizin köyünüz, Ilgaz Dağı'na ne kadar uzak?
D) Görgülü Caddesi'ne nereden gidebilirim?

14. Ağaçlardan yere dökülen birbirinden değerli birçok şeyle karşılaşırız. Sonbaharla birlikte yapraklar, tohumlar, meyveler bir hazine gibi karşımıza çıkar. Bunların her biri incelemeye değer. Bitkiler yaşadığımız yerin iklimi, coğrafyası ve bitki çeşitliliği gibi birçok konuda bize bilgi sağlar.

Bu metnin konusu aşağıdakilerden hangisidir?

- A) Bitki türleri
B) Bitkilerin önemi
C) İklim değişiklikleri
D) Tohumların ekimi

15. Aşağıdaki cümlelerin hangisinde “birlikte, beraberce” anlamına gelen bir söz kullanılmıştır?

- A) Bahçıvanla sabahdan beri baş başa çalıştık.
- B) Herkes büyüklere karşı saygılı olmalıdır.
- C) Her biri kendi evinde gece gündüz çalışıyordu.
- D) Aynı ses tonuyla defalarca şiir okuyabiliyordu.

16. 1. Burak ile Okan tiyatronun oynanacağı saatten önce buluştular.
2. Biraz sohbet ettikten sonra tiyatro salonuna girdiler.
3. Burak gidecekleri tiyatro için iki gün önceden biletleri aldı.
4. Okan ile Burak tiyatroya gitmek için plan yaptılar.

Numaralanmış cümleler olayların oluş sırasına göre nasıl sıralanmalıdır?

- A) 1 - 3 - 2 - 4
- B) 1 - 4 - 2 - 3
- C) 4 - 1 - 3 - 2
- D) 4 - 3 - 1 - 2

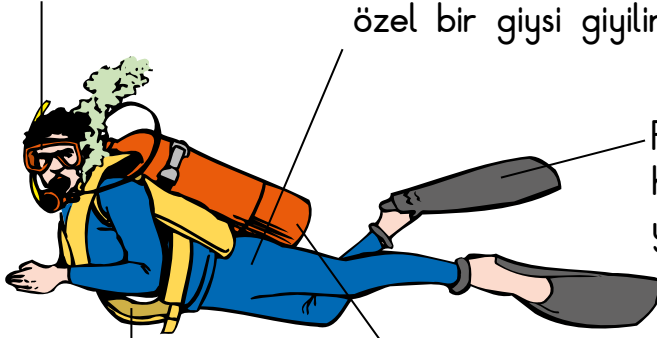
17. Yunuslar ve balinaların solungaçları bulunmaz. Yunus ve balinalar her ne kadar balık türünden olsalar da insanlar gibi akciğerleriyle solunum yaparlar. Ne var ki buldukları ortam nedeniyle farklı bir solunum şekli geliştirmişlerdir. Suyun altında uzun süre kalabilmelerine karşın, solunum için suyun üzerine çıkmaları gerekir. Başlarının üzerinde bulunan delik, onların solunumlarını sağlar. Bu delikten su değil, hava püskürtürler.

Bu metin yunus ve balinalarla ilgili aşağıdaki sorulardan hangisine yanıt vermek amacıyla yazılmıştır?

- A) Okyanuslarda mı yaşarlar?
- B) Ömürleri yaklaşık ne kadardır?
- C) Nasıl solunum yaparlar?
- D) Su altında ne kadar kalabilirler?

18. Maske suyun altında çevreyi net olarak görebilmeyi sağlar.

Dalış yaparken vücut sıcaklığının düşmesini önleyen özel bir giysi giyilir.



Palet daha az güç harcıyarak daha hızlı yüzmeyi sağlar.

Ağırlık kemeri derine inmeyi kolaylaştırır.

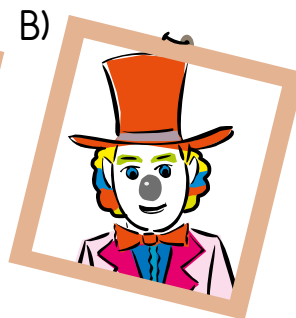
Gereksinim duyulan hava sırtta taşınan bir tüpten alınır.

Bu görsele göre, "dalğışlar" ile ilgili aşağıdakilerden hangisi söylenemez?

- A) Paletler sayesinde su altında daha çabuk hareket ederler.
 B) Maske sayesinde su altında çevreyi rahat bir şekilde görürler.
 C) İhtiyaç duydukları havayı sırtlarındaki tüpten sağlarlar.
 D) Ağırlık kemeri su altında dengede kalmalarını sağlar.

19. Bu tür palyaçolar abartılı hareketleri ile halk arasında en sevilen palyaçolardır. Makyajları da beyaz yüzlü palyaçolardan farklıdır. Onlar, yüzlerine beyaz boya sürmek yerine ten rengi boyalar sürerler. Makyajlarında gösterişli renkler tercih ederler. Makyajla ağızlarını kocaman, gözlerini büyük gösterirler. Burunlarını ise kırmızıya boyarlar.

Bu metinde sözü edilen palyaço görseli aşağıdakilerden hangisidir?



20. Güzel kokulu çiçeklerin içinde
Bir o yana bir bu yana
Koşmak isterim

Renk renk çiçeklerin üzerinden,
Kelebeklere, kuşlara, güneşe
Bakmak isterim

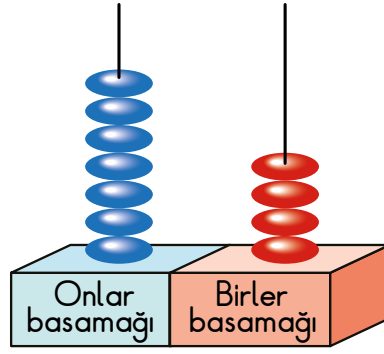
Bu şiirde anlatılanları en iyi karşılayan resim aşağıdakilerden hangisidir?



TÜRKÇE TESTİ BİTTİ.
MATEMATİK TESTİNE GEÇİNİZ.



1.



Eray, abaküs modelindeki çubuklardan birine iki boncuk daha ekliyor.

Buna göre Eray'ın elde ettiği sayı aşağıdakilerden hangisi olabilir?

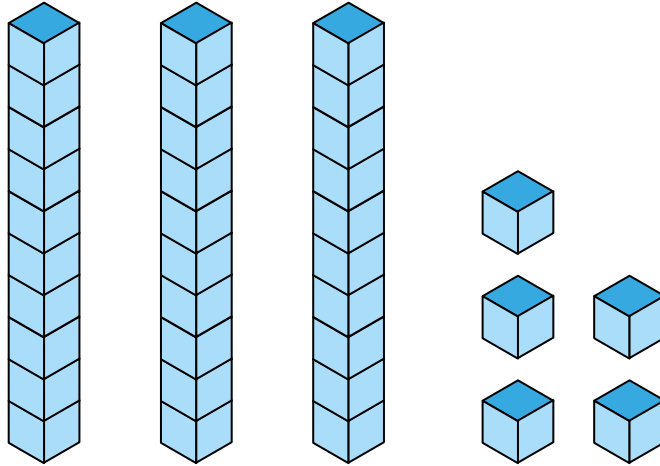
A) 96

B) 94

C) 85

D) 84

2.



Yukarıdaki bloklarla modellenen sayının onlar ve birler basamağındaki rakamların yerleri değiştiriliyor.

Buna göre elde edilen sayının onlar basamağındaki rakamın basamak değeri kaçtır?

A) 50

B) 40

C) 30

D) 20

3.

1	2	3	4	5	6	7	8	9	10
11	12	13	14	15	16	17	18	19	20
21	22	23	24	25	26	27	28	29	30
31	32	33	34	35	36	37	38	39	40

Derya 4'ten başlayarak 40'a kadar ileriye doğru dörder ritmik sayıyor. Derya, söylediği sayıları tabloda işaretliyor.

Buna göre Derya kaç sayıyı işaretlemiştir?

A) 7

B) 8

C) 9

D) 10

4. Görseldeki misketlerin üzerinde sayılar yazmaktadır.



Ömer, en yakın onluğa yuvarlandığında 50 olan sayıların bulunduğu misketleri arkadaşlarına vermiştir.

Buna göre aşağıdakilerden hangisi Ömer'in arkadaşlarına verdiği misketlerden biri değildir?


A)

B)

C)

D)

5.



Görseldeki  torbaların her birinin içinde 10 tane şeker bulunmaktadır.

Buna göre tabaklarda toplam kaç tane şeker vardır?

A) 75

B) 73

C) 72

D) 62

6. 3-A sınıfı öğrencileri 72 tane bayrak kullanarak sınıflarındaki camları ve panoları süslemişlerdir.

Camlar 24 tane bayrak ile süslendiğine göre panolar için kaç tane bayrak kullanılmıştır?


A) 42

B) 48

C) 52

D) 58

7.



Görselde toplam kaç tane elma vardır?

A) 41

B) 42

C) 51

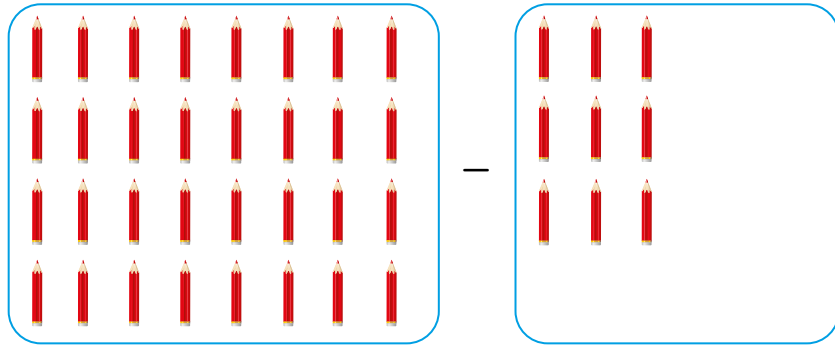
D) 52

8. Emre'nin 2 düzine misketi, Ahmet'in 3 desteden 2 tane fazla misketi vardır.

Emre ve Ahmet'in toplam kaç tane misketi vardır?

- A) 48 B) 52 C) 56 D) 62

9.



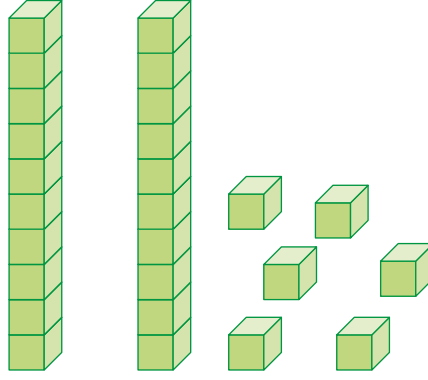
Görselde modellenen çıkarma işleminin sonucu kaçtır?

- A) 21 B) 23 C) 25 D) 27

10. Bir çıkarma işlemi için aşağıdaki eşitliklerden hangisi yanlıştır?

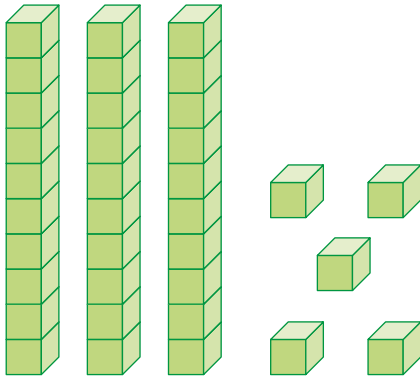
- A) Eksilen - Çıkan = Fark
B) Çıkan + Fark = Eksilen
C) Eksilen - Fark = Çıkan
D) Eksilen + Fark = Çıkan

11.

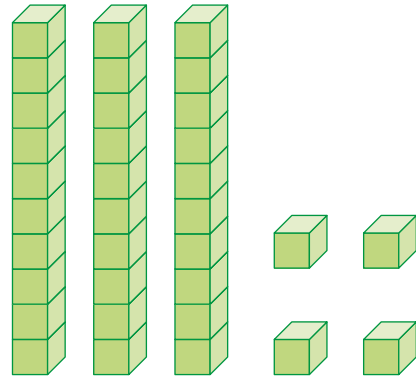


Verilen sayı bloklarına aşağıdaki sayı bloklarından hangisi eklenirse 61 sayısı elde edilir?

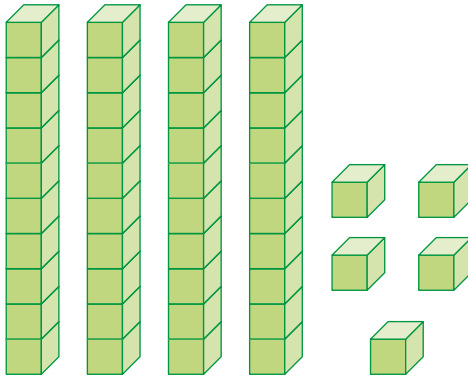
A)



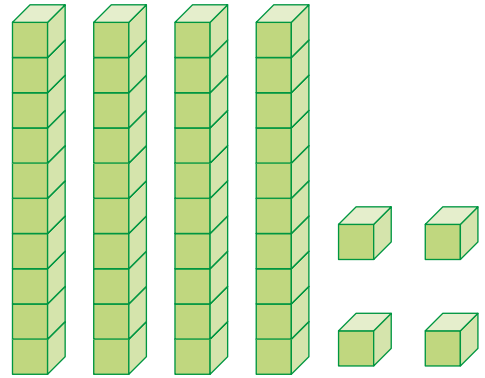
B)



C)



D)



12. $48 - 19 = 16 + \blacktriangle$

Verilen eşitlikte \blacktriangle kaçtır?

A) 9

B) 13

C) 18

D) 23

13. Görselde boş olan kapların dolması için alacakları su miktarları altlarında verilmiştir.



Verilen boş sürahiye 4 su bardağı, 1 çay bardağı ve 1 fincan su boşaltılıyor.

Buna göre sürahinin dolması için kaç fincan daha suya ihtiyaç vardır?

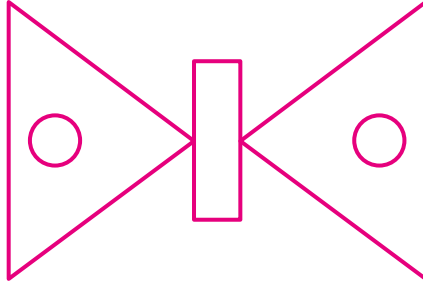
A) 5

B) 6

C) 7

D) 8

14.



Görselde aşağıdaki geometrik şekillerden hangisi kullanılmamıştır?

A) Çember

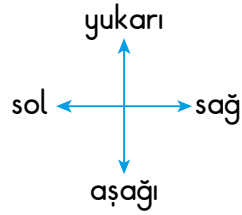
B) Üçgen

C) Kare

D) Dikdörtgen

15. Görselde numaralandırılmış kareli kutular verilmiştir.

1	2	3	4
5	6	7	8
9	10	11	12
13	14	15	16



Ezgi görseldeki 10 numaralı kutuya bir taş koymuştur. Ezgi, bu taşı 2 kutu yukarıya hareket ettirmiştir.

Buna göre taşın son durumda bulunduğu kutunun numarası aşağıdakilerden hangisidir?

A) 16

B) 12

C) 4

D) 2

16.



Verilen örüntüde eksik bırakılan yerlere sırasıyla aşağıdakilerden hangisi gelmelidir?



17.



Çocukların elindeki toplam balon sayısını gösteren işlem aşağıdakilerden hangisidir?

A) 5×4

B) 5×5

C) 5×6

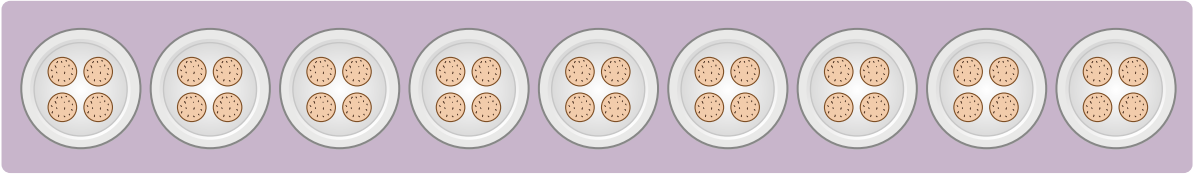
D) 5×7

18. Bir sınıftaki tüm öğrenciler her grupta 7 öğrenci olacak şekilde 4 gruba ayrılmıştır.

Buna göre bu sınıfta toplam kaç öğrenci vardır?

- A) 18 B) 21 C) 24 D) 28

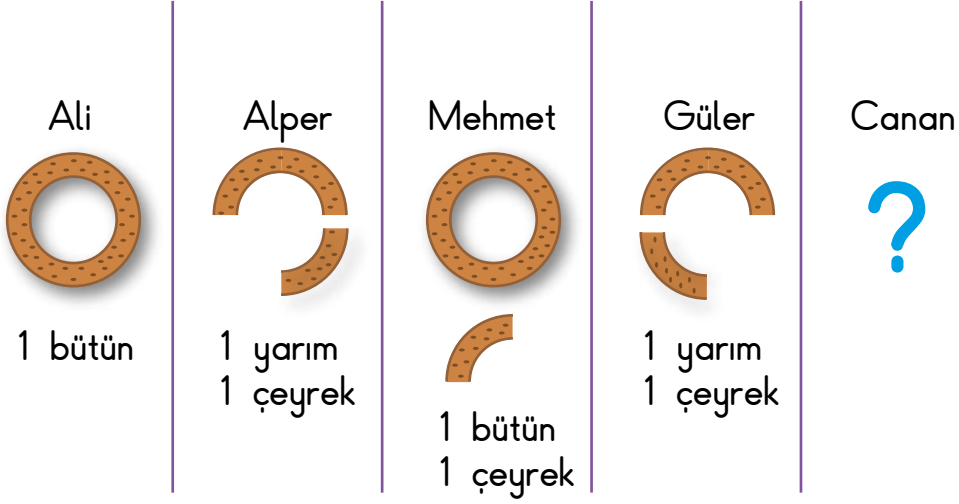
19. Görseldeki tabakların her birinde dörder tane kurabiye vardır.



Bu tabaklarda toplam kaç tane kurabiye vardır?

- A) 36 B) 32 C) 28 D) 24

20. 5 bütün simidin tamamını 5 kişi yemiştir. Canan hariç bu kişilerin yedikleri simit miktarları görselde verilmiştir.



Buna göre Canan'ın yediği simit miktarı aşağıdakilerden hangisidir?





- A) 1 bütün, 1 yarım
B) 1 bütün
C) 1 bütün, 1 çeyrek
D) 1 yarım

MATEMATİK TESTİ BİTTİ.
HAYAT BİLGİSİ TESTİNE GEÇİNİZ.







1. Sınıfımızda yapılan etkinliklerde uymamız gereken grupta çalışma kuralları vardır.

Aşağıdakilerden hangisi bu kurallarla ilgili yanlış bir ifadedir?

- A)  Farklı düşünen arkadaşlara saygı göstermeliyiz.
- B)  Sınıftaki etkinlikleri hazırlarken birlikte karar vermeliyiz.
- C)  Sorumluluk paylaşımında adaletli olmalıyız.
- D)  Grup çalışmalarını bir kişiye yaptırmalıyız.

2. Aşağıdakilerden hangisi okul ihtiyaçlarımızdan biri değildir?

- A)  Kalem
- B)  Silgi
- C)  Güneş gözlüğü
- D)  Defter

3. Afetler nedeniyle yardıma ihtiyaç duyulduğunda aşağıdakilerden hangisi aranmalıdır?

- A) Polis (1-5-5)
- B) AFAD (1-2-2)
- C) Jandarma (1-5-6)
- D) Sosyal Destek Hattı (1-8-3)

4. Aşağıdakilerden hangisi nezaket kurallarına uygun bir ifadedir?

- A) Beni dikkatle dinlediğin için teşekkür ederim.
- B) Seni düşüreyim de gör gününü!
- C) Hep yanlış oynuyorsun. Beceriksizsin!
- D) Senin yüzünden bankta bana yer kalmadı.

5. Deniz, gönderdiği mektupta arkadaşının ev adresini aşağıdaki gibi yazmıştır.



Deniz'in, mektuba yazdığı adreste aşağıdaki bilgilerden hangisi eksiktir?

- A) Mahalle adı
- B) Bina adı
- C) Cadde adı
- D) Şehir adı

6. Aşağıdakilerden hangisi fiziksel özelliklerimizden biri değildir?

A) Boyumuz

B) Göz rengimiz

C) Duygularımız

D) Kilomuz

7. Aşağıdakilerin hangisinde ulaşım araçları ve türleri yanlış eşleştirilmiştir?




Hava yolu

Uçak



Deniz yolu

Tren



Demir yolu

Tramvay



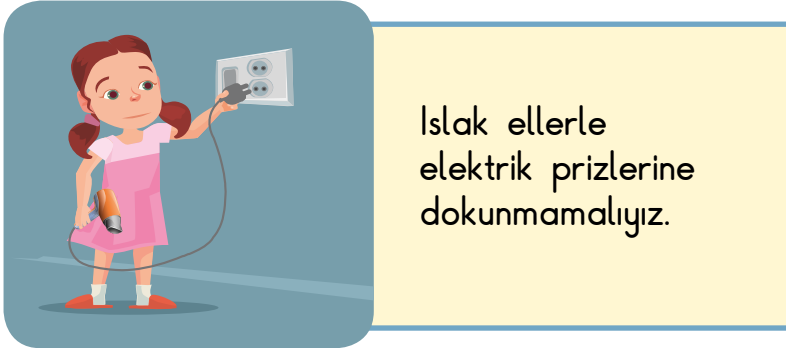
Kara yolu

Taksi

8. Aşağıdakilerden hangisi ulaşım araçlarıyla yolculuk yaparken uyulması gereken güvenlik kurallarından biridir?

- A) Emniyet kemerini sadece sürücüler takmalıdır.
- B) Taşıtlardan inerken acele edilmelidir.
- C) Özel araçlarda küçük çocuklar ön koltuğa oturmalıdır.
- D) Araç hareket hâlindeyken ayağa kalkılmamalıdır.

9.



Görseldeki uyarı aşağıdakilerden hangisi ile ilgilidir?

- A) Afet durumunda güvenlik
- B) Teknolojiyi güvenli kullanma
- C) Ulaşımда güvenlik kuralları
- D) Oyun araçlarının güvenli kullanımı

10. Ahmet teneffüste top oynarken ayağını incitmiştir.

Nöbetçi öğretmenin, durumu ailesine bildirebilmesi için Ahmet öncelikle aşağıdaki bilgilerden hangisini öğretmenine söylemelidir?


A) Velisinin telefon numarasını

B) Kardeşinin adını

C) Babasının mesleğini

D) Kaç yaşında olduğunu

11.



Verilen görselleri kullanan bir öğretmen hangi konuya dikkat çekmeyi amaçlamıştır?

A) Acil durumlara

B) Trafikte yardımlaşmaya

C) Ulaşım araçlarına

D) Ailedeki sorumluluklarımıza

12. Tabloda Ayça'nın çarşamba gününe ait ders programı verilmiştir.

ÇARŞAMBA	
1. DERS	Hayat Bilgisi
2. DERS	Matematik
3. DERS	Matematik
4. DERS	Türkçe
5. DERS	Türkçe
6. DERS	Görsel Sanatlar

Verilen ders programına göre Ayça'nın aşağıdakilerden hangisini çantasına koymasına gerek yoktur?

- A) Flüt
B) Cetvel
C) Boya kalemleri
D) Türkçe sözlük

13.



Haritada ülkemizin başkenti hangi numara ile gösterilmiştir?

- A) 1
B) 2
C) 3
D) 4

14. Aşağıdakilerden hangisi evdeki kaynakların tasarruflu kullanılmasına uygun bir örnektir?

- A) İzlemediğimiz hâlde televizyonu açık bırakmak
- B) Kalorifer yanarken elektrikli ısıtıcıyı çalıştırmak
- C) Gündüz vakti lambayı açık bırakmak
- D) Dişlerimizi fırçalarken yeterli miktarda su kullanmak

15. Öğretmen derste anlatacağı bir konu ile ilgili resimler göstermiştir.



Bu görsellere göre öğretmen aşağıdaki konulardan hangisini anlatacaktır?

- A) Sağlıklı beslenme
- B) Spor yapma
- C) Kişisel bakım
- D) Büyüklere saygı

16. Aşağıdakilerden hangisi sağlıklı büyüme ve gelişme için uygun değildir?



17. Aşağıdakilerden hangisi sağlıklı büyüüp gelişmeyi sağlar?

- A) Düzenli spor yapmak
- B) Çok az uyumak
- C) Fazla yemek yemek
- D) Ağır cisimler kaldırmak

18. Aşağıdakilerden hangisi yemekte yapılan doğru davranışlardandır?

- A) Sofrada başka şeylerle ilgilenmek
- B) Ağızımızda yemek varken konuşmamak
- C) Yemek sırasında sık sık yerimizden kalkmak
- D) Başkasına ait bardak, çatal ve kaşık kullanmak

19. Sağlığımız için meyve ve sebzeleri mevsiminde tüketmeliyiz.


Buna göre aşağıdaki meyvelerden hangisini yaz mevsiminde tüketmeliyiz?

A)




Portakal

B)




Kivi

C)



Nar

D)



Karpuz

20. Hasta olduğumuzda bizi muayene eder. Hastalığımızın ne olduğunu belirler. Gerekli olan ilaçları reçeteye yazar.

Bu metinde sözü edilen sağlık çalışanı aşağıdakilerden hangisidir?

A)



Doktor

B)



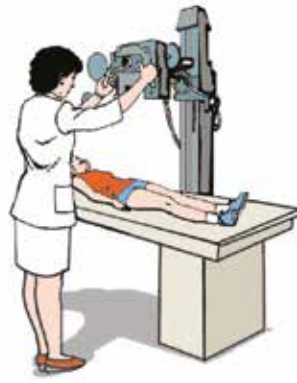
Hemşire

C)



Eczacı

D)



Sağlık görevlisi

TEST BİTTİ.
CEVAPLARINIZI KONTROL EDİNİZ.



SINAV BAŞLAMADAN AŞAĞIDAKİ UYARILARI MUTLAKA OKUYUNUZ!

1. Öğrenciler, sınav kurallarına ve salon görevlilerinin tüm uyarılarına uymak zorundadırlar.
2. Cevap kâğıdındaki kimlik bilgilerinin doğruluğunu kontrol ediniz. Bilgiler size ait değilse veya cevap kâğıdı kullanılmayacak durumdaysa sınav görevlilerine bildirin.
3. Sınav başladıktan sonra öğrencilerin salon görevlileri ve birbirleri ile konuşmaları, kalem, silgi vb. şeyleri istemeleri yasaktır.
4. Değiştirmek istediğiniz bir cevabı, yumuşak silgiyle cevap kâğıdını yıpratmadan temizce siliniz ve yeni cevabınızı kodlayınız.
5. Cevap kâğıdınızı siyah kurşun kalemle imzalayınız.
6. Cevaplarınızı, cevap kâğıdındaki ilgili soru numarasını dikkate alarak yuvarlağın dışına taşırmadan kodlayınız.
7. Soru kitapçığının sayfalarını kontrol ediniz, baskı hatası var ise değiştirilmesini sağlayınız.
8. Soru kitapçığı üzerinde yapıp cevap kâğıdına işaretlenmeyen cevaplar değerlendirmeye alınmayacaktır.
9. Soru kitapçığının içindeki boş alanları çözümlerinizi için kullanabilirsiniz.
10. Cevaplamaya istediğiniz sorudan başlayabilirsiniz.
11. Cevabını bilmediğiniz sorular üzerinde fazla zaman kaybetmeden diğer sorulara geçiniz. Zamanınız kalırsa bu sorulara daha sonra dönebilirsiniz.
12. Sınav puanınızın hesaplanmasında 3 yanlış 1 doğru cevabınızı götürecektir. Alt testler bu şekilde hesaplanarak net puanlarının toplamı toplam net puanınızı verecektir.
13. Sınav bitiminde, soru kitapçığı ve cevap kâğıdını salon görevlilerine teslim ediniz.
14. Sınav sırasında çanta, cep telefonu, saat, kablosuz iletişim sağlayan cihazlar ve kulaklık, kolye, küpe, bilezik, yüzük, broş ve benzeri eşyalar ile her türlü elektronik ve/veya mekanik cihazları yanınızda bulundurmuyunuz. Bu araçları yanınızda bulundurmanız ve kopya çekmeye teşebbüs etmeniz hâlinde sınavınız geçersiz sayılacaktır.
15. Cevap kâğıdınızı sınav süresince hiçbir öğrencinin göremeyeceği şekilde önünüzde bulundurunuz.
16. Sınavınızın değerlendirilmesi aşamasında, toplu kopya tespiti veya başka adayın sınav evrakını kullanmanız durumunda sınavınız geçersiz sayılacaktır.
17. Soruları ve sorulara verdiğiniz cevapları kaydetmeyiniz, hiçbir şekilde dışarı çıkarmayınız.
18. İlk 15 dakika dışarı çıkılmayacaktır.
19. Sınav evraklarını teslim etmeyenlerin sınavı geçersiz sayılacaktır.

SINAV GÖREVLİLERİNCE SINAV BAŞLAMADAN ÖNCE ÖĞRENCİLERE YAPILACAK SON UYARI!

- Soracağınız bir şey var mı? Varsa, şimdi sorunuz.
- Sınav başladıktan sonra sorularınıza cevap verilmeyecektir.
- Başlama zilini bekleyiniz.

Hepinize başarılar dileriz.

(Sınav görevlisi başlama ve bitiş saatini tahtaya yazacaktır.)

Bu kitapçığın her hakkı saklıdır. Hangi amaçla olursa olsun, kitapçığın tamamının veya bir kısmının Millî Eğitim Bakanlığı Ölçme, Değerlendirme ve Sınav Hizmetleri Genel Müdürlüğünün yazılı izni olmadan kopya edilmesi, fotoğraflarının çekilmesi, bilgisayar ortamına alınması, herhangi bir yolla çoğaltılması, yayımlanması veya başka bir amaçla kullanılması yasaktır. Bu yasağa uymayanlar, doğabilecek cezai sorumluluğu ve kitapçığın hazırlanmasındaki mali külfeti peşinen kabullenmiş sayılır.

**5 TEMMUZ 2020 TARİHİNDE YAPILAN TED ANKARA KOLEJİ VAKFI
ÖZEL İLKOKULU VE ORTAOKULU SEÇME SINAVI
3. SINIF "A" KİTAPÇIĞI CEVAP ANAHTARI**

TÜRKÇE	MATEMATİK	HAYAT BİLGİSİ
1. B	1. B	1. D
2. C	2. A	2. C
3. B	3. D	3. B
4. B	4. B	4. A
5. A	5. C	5. D
6. A	6. B	6. C
7. C	7. C	7. B
8. D	8. C	8. D
9. D	9. B	9. B
10. B	10. D	10. A
11. A	11. A	11. B
12. C	12. B	12. A
13. B	13. A	13. C
14. B	14. C	14. D
15. A	15. D	15. C
16. D	16. B	16. B
17. C	17. C	17. A
18. D	18. D	18. B
19. A	19. A	19. D
20. C	20. C	20. A