

5.
SINIF



A
KİTAPÇIK TÜRÜ

T.C.
MİLLÎ EĞİTİM BAKANLIĞI
ÖLÇME, DEĞERLENDİRME VE SINAV HİZMETLERİ
GENEL MÜDÜRLÜĞÜ

VEHBİ KOÇ VAKFI, KOÇ ÖZEL İLKOKULU VE ORTAOKULU SEVİYE TESPİT SINAVI
(4. Sınıftan 5. Sınıfa Geçenler)
4 HAZİRAN 2017 Saat: 10.00

Adayın Adı ve Soyadı :

Aday Numarası (T.C. No) :

DERS ADI	SORU SAYISI	TOPLAM SORU SAYISI	SINAV SÜRESİ (DAKİKA)
TÜRKÇE	20	100	120
MATEMATİK	20		
FEN BİLİMLERİ	20		
SOSYAL BİLGİLER	20		
İNGİLİZCE	20		

ÖĞRENCİLERİN DİKKATİNE!

1. Sınıf öğrenci yoklama listesinde belirtilen sınıfta ve sıra numarasında oturunuz.
2. Cevap kâğıdındaki kimlik bilgilerinin doğruluğunu kontrol ediniz.
3. Kitapçık türünü cevap kâğıdındaki ilgili alana kodlayınız.
4. Cevap kâğıdı üzerindeki kodlamaları kurşun kalemle yapınız.

SINAV BAŞLAMADAN ÖNCE KİTAPÇIĞIN ARKA KAPAĞINDAKİ UYARILARI MUTLAKA OKUYUNUZ.

1. Aşağıdakilerin hangisinde “düşmek” sözcüğünün cümlede kazandığı anlam yanlış verilmiştir?

	Cümle	Anlam
A)	Bozulan haberleşme uydusu, Atlas Okyanusu'na düştü.	Devrilmek, yere serilmek
B)	Ona mirastan bir ev, bir de tarla düşmüştü.	Bir bölüşme sonunda payına ayrılmak
C)	Yılın ilk karı hep Aladağ'ın doruklarına düşer.	Yağmak
D)	Siz, bu sıralar çocuğun üzerine çok düştünüz.	Aşırı ilgi ve sevgi göstermek

2. Aşağıdaki altı çizili sözcüklerden hangisi mecaz anlamlıdır?

- A) Çevresindekilere her zaman doğruyu söyler.
 B) Odada yalnız kalmaktan sonunda patladım.
 C) Bütün giyecekleri dolaba kilitlemişler.
 D) Dualarında hep hayırlı evlat isterdi.

3. Satışları artan şirketimiz bu sene iyi kazandı.

“İyi” sözcüğünün bu cümlede kazandığı anlam aşağıdakilerden hangisidir?

- A) Kolay
 B) Farklı
 C) Çok
 D) Hızlı

4. “Uçmak” sözcüğü aşağıdakilerin hangisinde “çok hızlı gitmek” anlamında kullanılmıştır?

- A) Dün gece balkondaki hırkam uçmuş.
 B) Bizim külüstürü görsen asfaltta uçar.
 C) Leylekler güneye doğru uçtu.
 D) Yarın İstanbul'a uçacağını söyledi.

5. Günlerdir dağınık olan odasını hızlıca topladı.

Bu cümledeki altı çizili sözcük aşağıdaki sorulardan hangisine cevap vermektedir?

- A) Niçin? B) Nerede?
C) Ne zaman? D) Nasıl?

6. (1) Peribacaları, sel sularının killi toprağı aşındırmasıyla oluşur. (2) Sel suları toprağı yarar böylece tepelerine doğru sivri- len piramitler ortaya çıkar. (3) Türkiye'de Ürgüp yakınlarında bulunan peribacalarını görmeye yabancı turistler de gelmektedir. (4) Doğada az bulunan bu ilginç oluşumlar bence koruma altına alınmalıdır.

Bu metindeki numaralanmış cümlelerin hangisinde öznel bir ifadeye yer verilmiştir?

- A) 1. B) 2. C) 3. D) 4.

7. Yağmur, İstanbul'a garip bir kış serinliğı getirdi.

Bu cümleden aşağıdakilerin hangisi kesin olarak çıkarılır?

- A) Yağmurun kışın yağdığı
B) İstanbul'da kışların sert geçtiğı
C) Yağmurun İstanbul'u serinlettiğı
D) Kışın İstanbul'a kar yağdığı

8. **Aşağıdakilerden hangisi tanım cümlesidir?**

- A) Osmanlı Devleti'ni Osman Gazi kurmuştur.
B) Mars'ta su olup olmadığı araştırılıyor.
C) Güvercin, ülkemizin her yerinde görülür.
D) Rakamlar, sayıları gösteren işaretlerdir.

9. (1) Cüceler masalarda yer alan kahra- manlardandır. (2) Bunların en tanınmış- ları Pamuk Prenses'in Yedi Cüceler'idir. (3) Bu masalla ilgili bir film çekilmiştir. (4) Bu film Pamuk Prenses'in Yedi Cüce- ler'ini dünyaya tanıtmıştır.

Bu metindeki numaralanmış cümlelerin hangisinde karşılaştırma yapılmıştır?

- A) 1. B) 2. C) 3. D) 4.

10. Giderek artan şehir ışıkları, pek çok hayvanın doğal yaşamını olumsuz etkiliyor. Peki ya bitkiler nasıl etkileniyor? Bilim insanları bunu anlamak için İngiltere’de bir deney yapmışlar. Işık kirliliğinin en yoğun olduğu bölgelerde bazı ağaçların daha erken çiçek açtığını gözlemlemişler. Bu çalışmayla ışık kirliliğinin doğa için ne kadar ciddi bir tehlike olabileceğini göstermişler.

Bu metnin konusu aşağıdakilerden hangisidir?

- A) Şehirleşmenin insan yaşamını zorlaştırması
- B) Bitki ve hayvan türlerinin azalması
- C) Işık kirliliğinin doğaya etkisi
- D) Bilim insanlarının tehlikeli deneyleri

11. 1. Ancak spor salonunun duvarına asmak için sadece şeftali sepeti bulunca oyunun adını “sepet topu (basketball)” olarak değiştirdi.
2. Uzun uğraşlar sonunda, topla oynanan rekabetçi bir oyun tasarladı.
3. İki kutuya ve bir topa ihtiyaç duyulan bu oyuna “kutu topu (boxball)” adını verdi.
4. Spor öğretmeni James Naismith 1891 yılında, öğrencileri için boks ve ragbi-den daha az şiddet içeren bir oyun tasarlamaya karar verdi.

Numaralanmış cümlelerle mantık akışına göre bir metin oluşturulduğunda sıralama nasıl olur?

- A) 3-1-4-2
- B) 3-4-2-1
- C) 4-2-3-1
- D) 4-3-1-2

12. Alerji, yiyeceklerden havadaki toza kadar birçok maddeye insan vücudunun gösterdiği aşırı tepkilerdir. Kaşıntı, geniz akıntısı, hapşırık, deride kızarıklık gibi tepkiler bunlardan bazılarıdır. Tıp dünyası, vücudun gösterdiği bu tepkilerin nedenlerini tam olarak bulamamıştır. Bu rahatsızlığı ortadan kaldıracak ilaçlar yoksa da etkisini hafifletecek ilaçlar vardır.

Bu metinde “alerji” ile ilgili aşağıdakilerden hangisine değinilmemiştir?

- A) Vücudu hassas kişilerde görüldüğüne
- B) Vücudun gösterdiği tepkilere
- C) Farklı maddelerden kaynaklanabildiğine
- D) Tamamen tedavi edilemediğine

13. Burak ile Yasin “öğleden sonra” film izlemek istemektedirler. Burak “komedi ve macera”, Yasin ise “korku ve komedi” filmlerinden hoşlanmaktadır.

Tabloda filmlerin günü, saati ve türü belirtilmiştir.

FİLM PROGRAMI		
	Cumartesi	Pazar
09.00-11.00		Kaçak (Macera)
10.00-12.00	Kediler (Komedi)	
14.00-16.00		Şanslı (Komedi)
15.00-17.00	Sis (Korku)	

Hoşlandıkları film türleri düşünüldüğünde bu tabloya göre Burak ve Yasin “birlikte” hangi filme gidebilirler?

- A) Kediler
- B) Sis
- C) Kaçak
- D) Şanslı

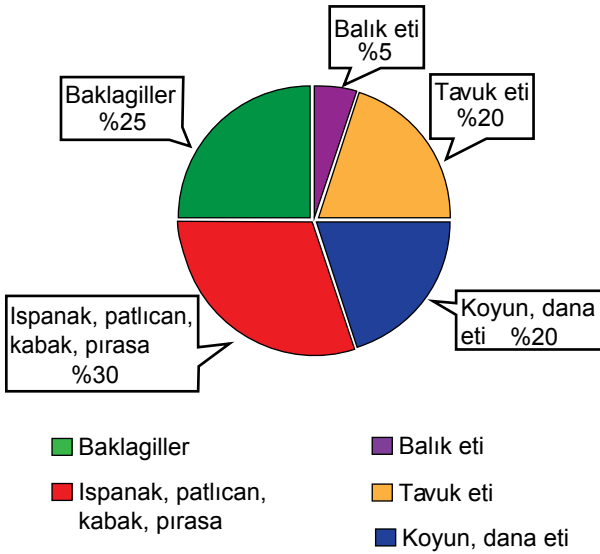
14. Yaşlı adam, bastonunu sıkıca tutarak oturuyordu muayene odasının girişindeki koltuklarda. Yanındaki torunu, yaşlı adama kendisini nasıl hissettiğini soruyordu sürekli. Bir ara hemşire odadan çıktı, sırada bekleyen hastalara göz attı. Hastane gittikçe kalabalıklaşıyordu. Tam bu sırada "Doktor Bey, hastanız geldi." diye bir ses duydum. Beni çağırıyorlardı.

Bu metinde anlatımı yapan kişi aşağıdakilerden hangisidir?

- A) Doktor
B) Torun
C) Yaşlı adam
D) Hemşire

15.

**GIDA MADDELERİNİN
TÜKETİM MİKTARLARI**



Bu grafiğe göre aşağıdakilerden hangisi söylenemez?

- A) En az tüketilen besin kaynağı deniz ürünüdür.
B) Beyaz et, kırmızı etten az tüketilmektedir.
C) Sebzeler, baklagillerden fazla tüketilmektedir.
D) Baklagil tüketimi, tavuk eti tüketiminden fazladır.

16. Çoğu yazar "10 yaşından beri hikâyeler yazıyorum zaten." der. Ama benim öyle bir durumum yok. Ben ilk kitabımı yazdığım da tam olarak 28 yaşındaydım.

Bu metin aşağıdaki sorulardan hangisine cevap vermek amacıyla söylenmiştir?

- A) Sizi yazmaya yönlendiren nedir?
B) Kitap yazmaya ne zaman başladınız?
C) Çocukluğunuzda yazar olmak ister miydiniz?
D) Yazarlığa geç başladığınızı düşünüyor musunuz?

17. Aşağıdaki sözcüklerden hangisi "-lık" eki aldığında "içine bir şey konacak kap, eşya" anlamı kazanmaz?

- A) Bilek
B) Kitap
C) Su
D) Peçete

18. Oyun için hazırlanan şekilli taşlar () masanın ortasında hemen göze çarpıyordu () Oyunun amacı şuydu () Taşları en çabuk şekilde eşleştirmek ()

Bu metinde ayrıca gösterilen yerlere sırasıyla aşağıdaki noktalama işaretlerinden hangileri getirilmelidir?

- A) (:) (!) (.) (.) B) (,) (...) (;) (!)
C) (") (.) (:) (") D) (,) (.) (:) (.)

19. Aşağıdaki cümlelerin hangisinde büyük harflerin kullanımıyla ilgili yanlışlık yapılmıştır?

- A) Arkadaşım, askere Haziran sonunda gidecek.
B) Balkan Savaşı sonrası taşındılar buraya.
C) Sındırgı, Balıkesir iline bağlı ilçelerden biridir.
D) Ben, İlk Çağ insanların yaşayışını merak ediyorum.

20. Bir misafiriğe gitsem,

1
Bana temiz bir yatak yapsalar;
2 3
Her şeyi, adımı bile unutup
4

Uyusam...

Bu dizelerdeki numaralanmış sözcüklerden hangisi kendisinden sonra gelen varlığı nitelemektedir?

- A) 1. B) 2. C) 3. D) 4.



1.

$$\begin{array}{r} A360 \\ - 54B1 \\ \hline 190C \end{array}$$

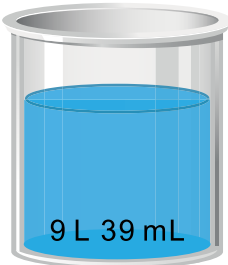
Yukarıda verilen çıkarma işlemine göre $A + B + C$ kaçtır?

- A) 19 B) 20 C) 21 D) 23


2. Aşağıdaki cümlelerin hangisinde olasılık belirten bir kelime kullanılmamıştır?

- A) Efe'nin, katıldığı her yarışmada dereceye girmesi muhtemeldir.
 B) Yağmur, girdiği sınavların hepsinden 50'nin üstünde puan aldı.
 C) Kırmızı topların bulunduğu bir torbadan beyaz top çekmek imkânsızdır.
 D) Bir para havaya atıldığında üst yüze tura gelme şansı yazı gelme şansına eşittir.

3.



1. Kap

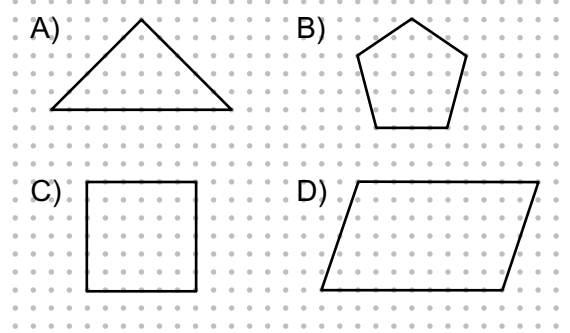


2. Kap

1. kaptaki suyun ne kadarı 2. kaba boşaltılırsa kaplardaki su miktarları eşit olur?

- A) 2 L 997 mL B) 3 L 3 mL
 C) 2 L 97 mL D) 3 L 993 mL

4. Aşağıdaki düzlemsel şekillerden hangisinin simetri doğrusu yoktur?

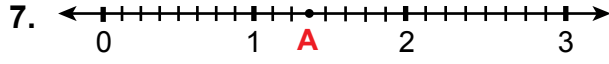


5. Aşağıda iki iç açısının ölçüsü verilen üçgenlerden hangisi geniş açılı üçgendir?

- A) $3^\circ, 87^\circ$ B) $41^\circ, 41^\circ$
 C) $60^\circ, 60^\circ$ D) $21^\circ, 69^\circ$

6. $0,2\Box > 0,25$ olması için \Box yerine kaç farklı rakam yazılabilir?

- A) 2 B) 3 C) 4 D) 5



Yukarıda verilen sayı doğrusunda A noktasına karşılık gelen kesir aşağıdakilerden hangisidir?

- A) $\frac{3}{5}$ B) $\frac{11}{8}$ C) $1\frac{3}{5}$ D) $2\frac{5}{8}$

8. $1\frac{2}{8} + \square \frac{\star}{8} = 3\frac{5}{\triangle}$

Yukarıda iki tam sayılı kesrin toplama işlemi verilmiştir.

Buna göre $\triangle + \square + \star$ kaçtır?

- A) 10 B) 11 C) 12 D) 13

9. Ardışık 5 tane çift doğal sayının toplamı 80'dir.

Buna göre 1. ve 4. sıradaki sayıların toplamı kaçtır?

- A) 24 B) 26 C) 28 D) 30

10. 1504 sayısındaki rakamlardan hangilerinin yerleri değiştirilirse oluşan sayı 4819 sayısından büyük olur?

- A) 1 ile 4 B) 1 ile 5
C) 5 ile 4 D) 5 ile 0

11.
$$\begin{array}{r} 6 \bullet \bullet \mid 1 \bullet \\ \underline{60} \quad \mid 54 \\ \bullet \bullet \\ \underline{\bullet \bullet} \\ 06 \end{array}$$

Yukarıda verilen bölme işleminde her nokta bir rakama karşılık gelmektedir.

Buna göre bölünen sayı kaçtır?

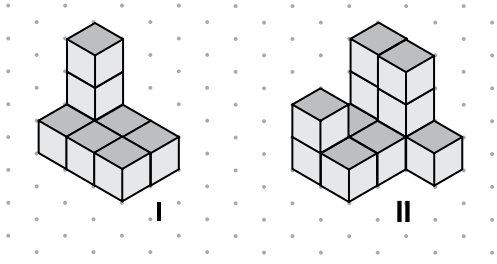
- A) 642 B) 645
C) 648 D) 654

12. Bir çiftçi tarlasının yarısına biber, $\frac{5}{12}$ 'ine domates, geri kalanına patlıcan ekmiştir.

Buna göre patlıcan ekili alan tarlanın kaçta kaçtır?

- A) $\frac{1}{12}$ B) $\frac{2}{12}$
C) $\frac{6}{12}$ D) $\frac{7}{12}$

13.



Şekildeki I ve II numaralı yapılar toplam 20 birim küpten oluşmuştur.

Buna göre II numaralı yapıdan kaç birim küp alınıp I numaralı yapıya konulursa her iki yapıdaki birim küp sayıları eşit olur?

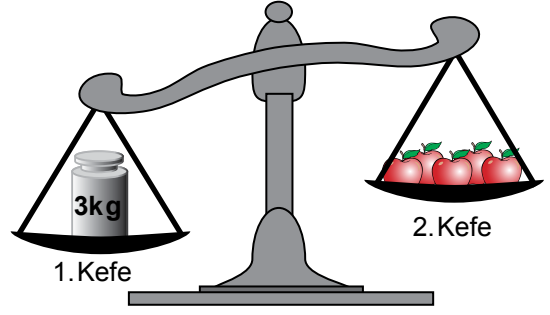
- A) 5 B) 4 C) 3 D) 2

14. Saat 10.45'te Ankara'dan yola çıkan Antalya otobüsü, 3 saat 58 dakika yol aldıktan sonra 25 dakika mola veriyor.

Otobüs Antalya'ya saat 18.05'te vardığına göre moladan sonra kaç dakika yol almıştır?

- A) 152 B) 157
C) 177 D) 202

15.



Yukarıdaki terazinin 2. kefesinde 1 kg 250 g elma vardır.

Terazinin dengede olması için 2. kefeye kaç gram daha elma konmalıdır?

- A) 1250 B) 1750
C) 2500 D) 3000

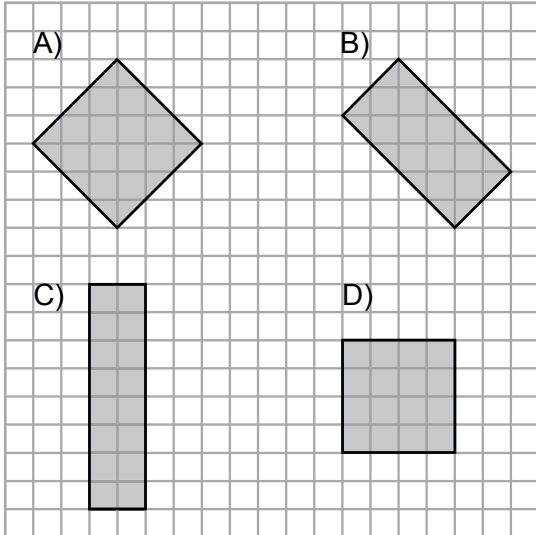
16. Açı ve açı ölçüleri ile ilgili aşağıdaki ifadelerden hangisi yanlıştır?

- A) Bir geniş açı ile bir dar açının ölçüleri farkı, hiçbir zaman 90° olamaz.
B) İki dik açının ölçüleri toplamı, bir doğru açının ölçüsüne eşittir.
C) Bir doğru açı ile bir dar açının ölçüleri farkı, 90° 'den büyüktür.
D) Bir geniş açı ile bir dik açının ölçüleri farkı, 90° 'den küçüktür.

17. Aşağıda verilen eşitliklerden hangisi yanlıştır?

- A) $323 \text{ cm} = 3 \text{ m } 23 \text{ cm}$
 B) $6 \text{ m } 3 \text{ cm} = 603 \text{ cm}$
 C) $715 \text{ mm} = 7 \text{ cm } 15 \text{ mm}$
 D) $9050 \text{ m} = 9 \text{ km } 50 \text{ m}$

18. Aşağıda verilen dörtgenlerden hangisinin alanı diğerlerinden farklıdır?

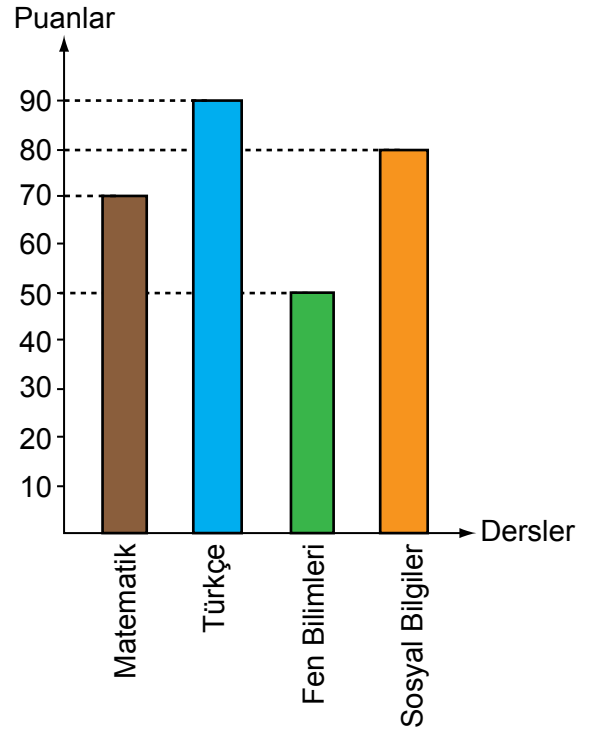


19. Dikdörtgen şeklindeki bir tarlanın çevresinin uzunluğu 152 metredir. Bu tarlanın uzun kenarının uzunluğu, kısa kenarının uzunluğunun 3 katıdır.

Buna göre bu tarlanın uzun kenarının uzunluğu kaç metredir?

- A) 38 B) 48 C) 57 D) 114

20. Grafik: Derslere Göre Alınan Puanlar



Ezgi'nin bazı derslerin sınavlarından aldığı puanlar yukarıdaki grafikte verilmiştir.

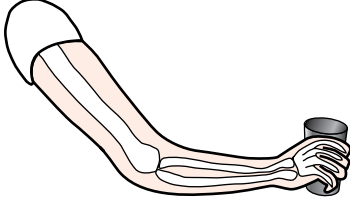
Buna göre aşağıdaki ifadelerden hangisi yanlıştır?

- A) En yüksek puanı Türkçe dersinden almıştır.
 B) En düşük puanı Fen Bilimleri dersinden almıştır.
 C) Matematik ile Fen Bilimleri derslerinden aldığı puanlar arasındaki fark 30'dur.
 D) Sosyal Bilgiler dersinden aldığı puan Matematik dersinden aldığı puandan 10 fazladır.

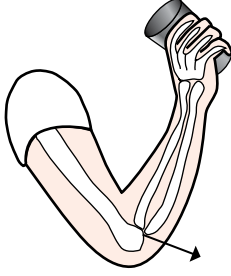
MATEMATİK TESTİ BİTTİ.
 FEN BİLİMLERİ TESTİNE GEÇİNİZ.



1. Ayşe, içinde su bulunan bardağı şekildeki gibi alıyor. Sonra içmek için ağzına götürüyor.



I. durum

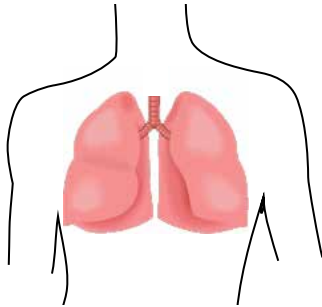


II. durum

II. durumda kolun büküldüğü, ok işareti ile gösterilen kısma ne ad verilir?

- A) Kas
B) Eklem
C) Yassı kemik
D) Uzun kemik

2. Şekilde bir organımız verilmiştir.



Bu organ vücudumuzda hangi faaliyeti gerçekleştirir?

- A) Bütün besin atıklarını vücuttan atar.
B) Besinlerin sindirimini gerçekleştirir.
C) Gaz alışverişini gerçekleştirir.
D) Kanı vücuda pompalar.

3. Şekilde vücudumuzdaki bazı organ ve yapılar verilmiştir.



Aşağıdakilerden hangisi bunların görevleri arasında değildir?

- A) Vücuda alınan besinleri küçük parçalara ayırma
B) Atık maddeleri taşıma
C) Kanın vücutta dolaşımını sağlama
D) Oksijeni ilgili yapılara taşıma

4. Ahmet'in iki farklı durumdaki nabız sayısı tablodaki gibidir:

	<i>I. durum</i>	<i>II. durum</i>
<i>Nabız sayısı</i>	85	110

Buna göre Ahmet, I. ve II. durumlarda hangisini yapmış olabilir?

	<u>I. durum</u>	<u>II. durum</u>
A) Egzersiz		Dinlenme
B) Koşma		Kitap okuma
C) Yürüme		Koşma
D) Yemek yeme		Uyuma

5. Öğrenciler mikroskopla ilgili bilgilerini aşağıdaki gibi ifade etmiştir.

Ayşe : İlk kullanılan mikroskopla ancak gözümüzle görebildiğimiz canlıları görebilirdik.

Mete : Gelişen teknolojiyle birlikte mikroskopların büyütme oranı artmıştır.

Sevgi: Günümüzde kullanılan mikroskopların en önemli özelliği uzaktaki varlıkları küçük ve yakın göstermesidir.

Bu öğrencilerden hangilerinin verdiği bilgi doğrudur?

- A) Yalnız Mete B) Ayşe ve Mete
C) Ayşe ve Sevgi D) Mete ve Sevgi

6. Çevre kirliliği olan bir bölgede öğrenciler "Toprağımız Temiz Kalsın Projesi" için afişler hazırlıyorlar.

Aşağıdakilerden hangisi bu projeye uygun bir afiş olamaz?

- A) *Çiçek ekelim toprağa,
cam ve plastik atıkları
atalım ayrı kutulara.*
- B) *Temiz olursa
suyumuz ve havamız,
tertemiz olur toprağımız.*
- C) *Zehirli atıkları
atmayalım toprağa,
hepsini dökelim akarsulara.*
- D) *Toprağımız olsun temiz,
sağlıklı olsun
meyve ve sebzemiz.*

7. Bir öğrenci, kuvvetin cisimler üzerindeki etkisine örnek veriyor.

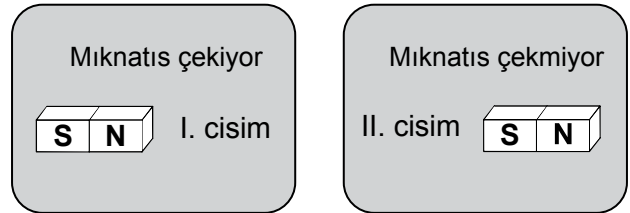
Üzerine bastığım kutu yassılaştı.



Verilen örnekte kuvvetin hangi etkisi gözlenmiştir?

- A) Şekil değiştirme B) Hareket ettirme
C) Yavaşlatma D) Yön değiştirme

8. Mıknatıslarla yapılan iki uygulamanın sonucu şekildeki gibidir:



Buna göre uygulamalardaki I. ve II. cisimler aşağıdakilerin hangisinde verilenler olabilir?

- | | I. cisim | II. cisim |
|----|---------------|---------------|
| A) | Bakır tel | Toplu iğne |
| B) | Demir çivi | Tahta parçası |
| C) | Karton kutu | Bakır tel |
| D) | Tahta parçası | Demir tozu |

9. Aşağıda öğrenciler ışık kirliliğinin nedenlerini konuşuyorlar.

Açık alanlarda güçlü aydınlatma araçlarının kullanılması ışık kirliliğini artırır.




Mehmet

Yerleşim alanları büyüdükçe ışık kirliliği artar.



Ayşe

Sokak lambaları, gökyüzünü aydınlatacak şekilde yapılırsa ışık kirliliği azalır.



Arda

Bu öğrencilerden hangilerinin görüşü doğrudur?

- A) Yalnız Mehmet B) Yalnız Arda
C) Mehmet ve Ayşe D) Ayşe ve Arda
10. Bir öğrenci sınıftaki etkinlikte geçmişte ve günümüzde kullanılan aydınlatma araçlarına birer örnek verip sunum yapmak istiyor.

Buna göre öğrenci aşağıdakilerin hangisinde verilen araçları kullanmalıdır?

A)




B)



C)



D)

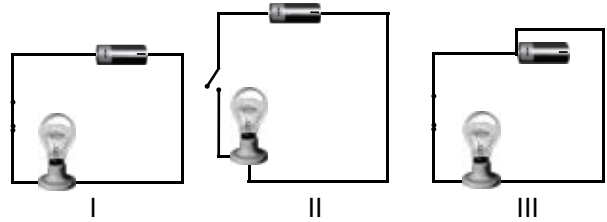


11. Binalarda ses yalıtımı iyi yapılmalıdır. Böylece ses kirliliği engellenebilir.

Aşağıdakilerden hangisi bu amaçla yapılan uygulamalardandır?

- A) Binanın yol kenarına yapılması
B) Pencerelerin büyük ve çok sayıda olması
C) Bina kapısına sesi uzaktan duyulabilen alarm cihazı takılması
D) Duvarların içine köpük, cam yünü gibi malzemeler yerleştirilmesi


12. Şekillerde basit elektrik devresi verilmiştir.



Bu devrelerin ışık verme durumlarıyla ilgili olarak aşağıdakilerden hangisi doğrudur?

- A) Yalnız I ışık verir çünkü devre elemanları doğru bağlanmıştır.
B) II'nin ışık vermesi için pilin doğru bağlanması gerekir.
C) Yalnız III ışık verir çünkü devre elemanları doğru bağlanmıştır.
D) III'ün ışık vermesi için ampulün doğru bağlanması gerekir.

13. Nilgün, duvardaki elektrik düğmesine basınca lamba şekildeki gibi yanmaktadır.



Elektrik düğmesi ve lamba arasındaki bağlantıyı aşağıdakilerden hangisi sağlamıştır?

- A) Pil
B) Duy
C) Batarya
D) Kablo
14. İki farklı kumaş parçası üzerine aynı miktarda su dökülüyor. Birinci kumaş suyu emerken ikinci kumaş üzerine dökülen su, kumaş üzerinde kalıyor.

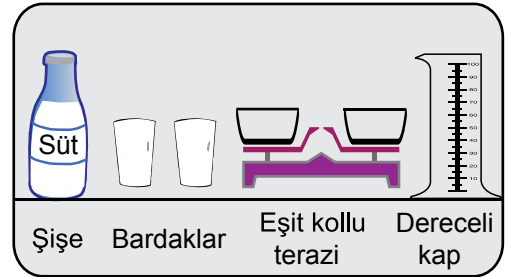
Bu iki kumaşın aşağıdakilerin hangisindeki gibi kullanımı uygundur?

- A) Birincisi çanta yapımında, ikincisi temizlik bezi olarak
B) Birincisi havlu olarak ikincisi şemsiye yapımında
C) Birincisi yağmurluk yapımında, ikincisi havlu olarak
D) Birincisi şemsiye yapımında, ikincisi temizlik bezi olarak

15. Bulunduğu kabın şeklini alan ve akışkan özelliğe sahip olan madde aşağıdakilerden hangisidir?

- A) Kâğıt
B) Çivi
C) Su
D) Buz

16. Şekilde bazı araç - gereçler ve içinde süt bulunan şişe verilmiştir.



Bir öğrenci bu şişedeki sütün hacmini bulmak için, verilen araç-gereçlerle aşağıdakilerden hangisini yapmalıdır?

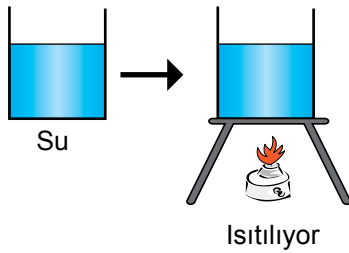
- A) Sütü bardaklara boşaltıp şişeyi eşit kollu terazide tartmalı.
B) Sütü dereceli kaba boşaltıp bu kabtaki süt seviyesine bakmalı.
C) Şişeyi eşit kollu terazide tarttıktan sonra sütü boşaltıp şişeyi tekrar tartmalı.
D) Dereceli kabı eşit kollu terazide tartıp sütü bu kaba boşaltıp tekrar tartmalı.

17. Ahmet, buzdolabından aldığı soğuk suyu rahat içemiyor. İçine biraz sıcak su ekliyor.

Bunun sonucu olarak aşağıdakilerden hangisi gerçekleşmiştir?

- A) Soğuk ve sıcak su arasında ısı aktarımı olmuştur.
B) Bardaktaki suyun kütlesi azalmıştır.
C) Suyun tamamı gaz hâline gelmiştir.
D) Bardaktaki su soğumuştur.

18. Can, bir kaptaki suyu ısıtarak deney yapıyor.



Can, bu deneyde suyun katı hâlini de gözlemek isterse deneyde aşağıdakilerden hangisini yapmalıdır?

- A) Isıtma işlemine devam etmeli
B) Kabın üzerini kapakla kapatmalı
C) Suyu donması için buzdolabına koymalı
D) Su kaynarken üzerine çok soğuk su eklemeli

19. Bazı varlıklar aşağıdaki gibi gruplandırılmıştır.



Bu gruplandırmada aşağıdakilerden hangisine örnekler verilmiştir?

- A) Canlılar ve cansızlara
B) Maddeler ve cisimlere
C) Saf maddeler ve karışımlara
D) Esnek ve kırılgen maddelere

20. Cam bilye, demir tozu ve toz şeker karışımı ayrıştırılmak isteniyor.

Bunun için aşağıdakilerin hangisinde verilenler kullanılır?

- A) Yalnızca mıknatıs
B) Elek ve mıknatıs
C) Bir kap içinde su ve süzgeç
D) Bir kap içinde su, elek ve mıknatıs

FEN BİLİMLERİ TESTİ BİTTİ.
SOSYAL BİLGİLER TESTİNE GEÇİNİZ.



1. 19 Mayıs 1919'da Samsun'a çıkan Mustafa Kemal, buradan Havza ve Amasya'ya geçti. Genelgeler yayımlayarak yurdun içinde bulunduğu durumu ve kurtuluş yolunu halka anlattı.

Bu parçaya göre Mustafa Kemal'in vatanın kurtuluşu için aşağıdakilerden hangisine öncelik verdiği söylenebilir?

- A) Ordunun ihtiyaçlarını karşılamaya
B) Avrupalı devletlerin desteğini almaya
C) Ekonomiyi geliştirmeye
D) Millî birlik ve beraberliği sağlamaya

2. Mustafa Kemal'e "mareşallik" rütbesi ve "gazilik" unvanı hangi savaştan sonra verilmiştir?

- A) Başkomutan Meydan Muharebesi
B) Sakarya Meydan Savaşı
C) Birinci İnönü Savaşı
D) Çanakkale Savaşı

3. Millî Mücadele sürecindeki

1. Sakarya Meydan Savaşı
2. Büyük Millet Meclisi'nin açılışı
3. I. İnönü Savaşı
4. Lozan Barış Antlaşması

gelişmelerinin oluş sırası aşağıdakilerin hangisinde verilmiştir?

- A) 1 - 2 - 3 - 4 B) 3 - 1 - 2 - 4
C) 2 - 3 - 1 - 4 D) 3 - 4 - 2 - 1

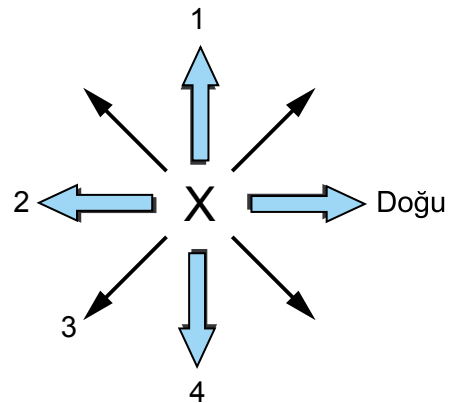
4. Aşağıdakilerden hangisi ile milletin egemenliğine dayalı bir yönetimin temelleri atılmıştır?

- A) Büyük Millet Meclisi'nin açılması
B) Mustafa Kemal'in Samsun'a çıkması
C) Sevr Antlaşması'nın imzalanması
D) Mebusan Meclisi'nin dağıtılması

5. Türk ordusu Millî Mücadele'de, doğu cephesinde aşağıdakilerin hangisi ile savaşmıştır?

- A) Yunanlılar B) Fransızlar
C) Ermeniler D) Ruslar

- 6.



X noktasında bulunan bir kişi güneye gitmek için kaç numaralı oku takip etmelidir?

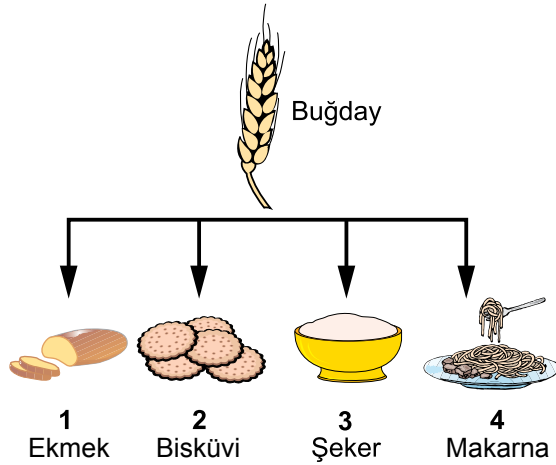
- A) 1. B) 2. C) 3. D) 4.

7. Krokilerde ölçek yoktur.

Bu bilgiyi aşağıdakilerden hangisi destekler?

- A) Kabataslak çizilip hazırlanırlar.
- B) Bir yerin kuş bakışı görüntüsüdür.
- C) Krokide yer alan unsurlar hemen altında şekil ve sembollerle gösterilir.
- D) Bilinen bina ve yapılar krokilerde gösterilmek zorundadır.

8.

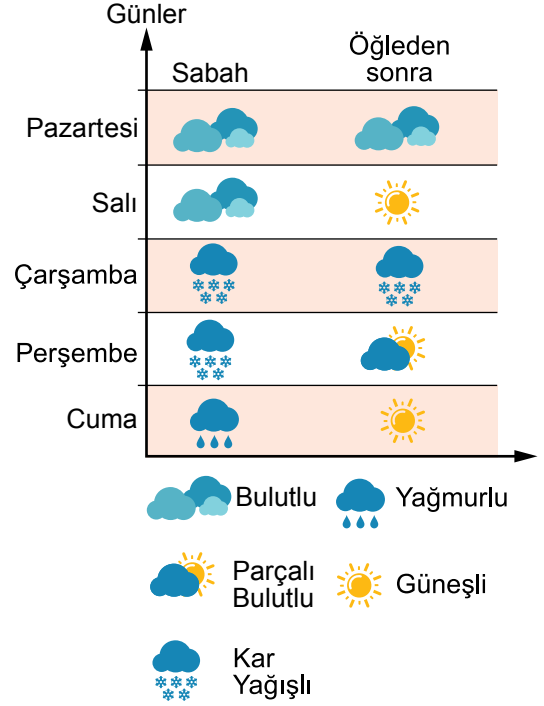


Bu şemada numaralanmış hangi ürünün kaynağı buğday değildir?

- A) 1.
- B) 2.
- C) 3.
- D) 4.

9. Pazartesi ve salı hava bulutluydu. Çarşamba sabahı başlayan kar yağışı perşembe öğleye doğru sona erdi. Perşembe günü öğleden sonra hava parçalı bulutluydu. Cuma günü ise sabah yağmurlu olan hava, öğleden sonra güneşli ve açıktı.

Yukarıda beş günlük hava gözlemini yapan Murat bunu aşağıda verilen grafikte gösterdi.



Murat hangi günkü hava durumunu yanlış göstermiştir?

- A) Salı
- B) Çarşamba
- C) Perşembe
- D) Cuma

10. Ortaokul öğrencisi olan Uğur'un, annesi doktor, babası ise makine mühendisi olmasını istiyor. Oysa Uğur'un hayali turist rehberi olmak, turizm alanında çalışmaktı. Bu sayede pek çok ülkeyi gezeceğini, farklı kültürlerden arkadaşları olacağını düşünüyordu.

Uğur'un bu mesleği tercih etmesinde aşağıdakilerden hangisinin etkisi yoktur?

- A) Dünyayı gezmek
B) Çok para kazanmak
C) Yeni insanlar tanımak
D) İliği duyduğu alanda çalışmak

11. Halkı depreme karşı bilinçlendirmek isteyen öğrenci aşağıdaki fotoğrafları kullanarak bir afiş hazırlamak istiyor.



Bu afişe aşağıdaki sloganlardan hangisini yazmak uygun olur?

- A) Binaları çok katlı yapalım.
B) Deprem değil bina öldürür.
C) Türkiye'nin %80'i deprem bölgesidir.
D) Tarım alanlarını yerleşime açmayalım.

12. Öğretmen, sınıftaki öğrencilerden yön bulma ile ilgili bilgi vermesini istemiştir.

Ahmet : Kutup yıldızını karşımıza aldığımızda arkamız kuzeydir.

Nuray : Ağaç ve taşların yosunlu kısımları doğuyu gösterir.

Zeynep : Güneşin doğduğu yere sağ kolumuzu uzatırsak önümüz kuzeydir.

Cenk : Pusulanın renkli ucu her zaman batıyı gösterir.

Bu öğrencilerden hangisinin yön bulma tarifinde verdiği bilgi doğrudur?

- A) Ahmet
B) Nuray
C) Zeynep
D) Cenk

13. Atatürk, II. Dünya Savaşı'nın belirtilerini ölmeden önce fark etmiş ve Türkiye'nin bu savaşta tarafsız kalması gerektiğini söylemiştir.

Bu açıklamada Atatürk'ün hangi kişilik özelliği vurgulanmıştır?

- A) Çok yönlülüğü
B) Açık sözlülüğü
C) Bütünleştiriciliği
D) İleri görüşlülüğü

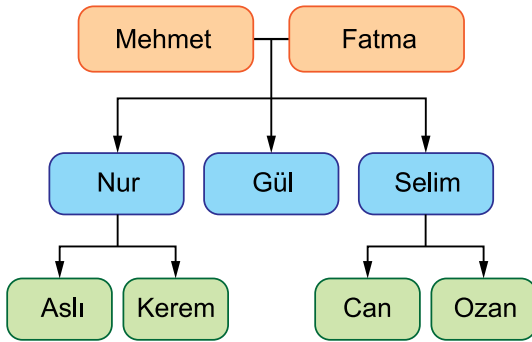
14.

Durum	Duygu	Düşünce
Sınavdan düşük not aldım.	?	Keşke çalışsaydım.

Bu tabloda “?” ile belirtilen bölüme aşağıdaki duygulardan hangisi yazılmaz?

- A) Üzüntü
B) Suçluluk
C) Kırgınlık
D) Pişmanlık

15.



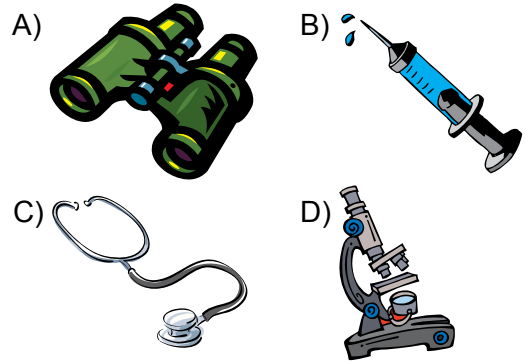
Bu soy ağacına göre aşağıda verilen isimlerin hangileri arasında diğerlerinden farklı bir ilişki vardır?

- A) Nur ile Selim
B) Can ile Ozan
C) Aslı ile Kerem
D) Mehmet ile Fatma

16. Aşağıdakilerden hangisi bir ürünün kalite standartlarına uygun üretildiğini gösterir?

- A) Fatura
B) TSE damgası
C) Üretim tarihi
D) Kullanma kılavuzu

17. Aşağıdakilerden hangisinin kullanım alanı diğerlerinden farklıdır?



18.



Bu ürünün yanlış kullanımı; aşırı kiloya, uyku sorunlarına ve küçük çocuklarda otizm hastalığına yol açar.

Öğretmen konuşmasında aşağıdaki teknolojik ürünlerden hangisinin olumsuz etkilerinden söz etmiştir?

- A) Otomobil
B) Televizyon
C) Saat
D) Telefon

19. Doğal afetlerde arama kurtarma çalışmaları yapan sivil toplum örgütü aşağıdakilerden hangisidir?

- A) AKUT
B) TEMA
C) LÖSEV
D) AÇEV

20. Aşağıdakilerden hangisi belediyelerin görevlerinden değildir?

- A) Semt pazarlarını denetlemek
B) Park ve bahçeleri düzenlemek
C) Nüfus kayıt işlemlerini yürütmek
D) Şehir içi ulaşımı sağlayacak düzenlemeler yapmak



1 - 10. sorularda boş bırakılan yere uygun gelen kelime ya da ifadeyi işaretleyiniz.

1. **Tracy** : - - - - ?

Nina : At a hospital.

- A) Where do you go on Saturdays
- B) What does your father look like
- C) Where does your father work
- D) What is your favourite hobby

2. **Paula** : May I borrow your hat?

Elsie : - - - -. It is dirty now.

- A) Thank you
- B) Repeat, please
- C) No, I can't
- D) Maybe later

3. **Trevor** : - - - - ?

Roger : I don't think so. She can't speak Spanish.

- A) Where is the new student from
- B) Is the new student from Spain
- C) Do you like speaking Spanish
- D) Who likes speaking Spanish

4. **Tom** : - - - - ? I am reading a book.

Joe : I'm sorry.

- A) Can you play tic-tac-toe with me
- B) Can you live under the sea
- C) Can you be quiet please
- D) Can you dance with me

5. **Max** : - - - - ?

Jane : Here you are.

- A) Can I sleep here
- B) Can I come into the class
- C) Can you give me your pencil
- D) Can you answer this question

6. **Martin** : What is Ted like?

James : - - - - .

- A) He likes football
- B) He is shy and quiet
- C) Ted likes doing puzzles
- D) Ted's favorite sport is swimming

7. **Becky** : - - - -?

Percy : It is foggy.

- A) Who likes foggy weather
- B) What is the weather like today
- C) What do you do in foggy weather
- D) Which season is foggy in your country

8. **Gloria** : - - - -?

Pat : I have a toy collection and I play with my toys.

- A) What do you do in your free time
- B) When do you play with your toys
- C) Where do you play with your toys
- D) What time do you play with your toys

9. **Jack** : What time does the school start?

Anna : It starts - - - -.

- A) on weekdays
- B) on Mondays
- C) in autumn
- D) at 8 o'clock

10. **It's very cold and cloudy in London now. You need your - - - -.**

- A) coats
- B) t-shirts
- C) flip-flops
- D) sunglasses

11 - 14. soruları verilen görsele göre cevaplayınız.

11.



Jason : - - - -?

Teacher : Yes, you may.

- A) May I come in
- B) May I sit down here
- C) May I close the window
- D) May I answer the question


12.



Peter is very strong. He can - - - - .

- A) catch a fish B) play tennis
C) climb a bar D) lift weights


13.



Timothy has - - - - .

- A) straight dark hair and a mustache
B) wavy fair hair and a mustache
C) curly blonde hair and a beard
D) wavy dark hair and a beard

14.



The weather is rainy and - - - - .

- A) snowy B) cloudy
C) sunny D) windy

15. "Don't eat in class!" cümlesini ifade eden görsel aşağıdakilerden hangisidir?

A)



B)



C)




D)



16. "You need a magnifier in the lab." cümlesinde ifade edilen nesne aşağıdakilerden hangisidir?

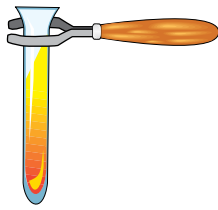
A)



B)




C)



D)



17.



Numaralanmış görsellerin ifade ettiği mevsimler aşağıdakilerin hangisinde verilmiştir?

	1	2	3	4
A)	autumn	spring	winter	summer
B)	summer	winter	autumn	spring
C)	spring	autumn	summer	winter
D)	winter	summer	spring	autumn

18 - 20. soruları aşağıda verilen metne göre cevaplayınız.

Hi, my name is Michael. I am American but I am an engineer in a factory in England, Europe. I am 25 years old. I get up early and go to work in the mornings on weekdays. In the afternoons, I come home and read some books. In the evenings, I watch TV and sleep. On Saturdays, I like doing origami and lifting weight at home. My favorite free time activity is going on a picnic on my grandfather's farm on Sundays.

18. Michael - - - .

- A) is from the USA
- B) lives in his hometown
- C) doesn't live in England
- D) doesn't work in Europe

19. Michael likes - - - .

- A) working on a farm
- B) doing origami on weekdays
- C) lifting weight on weekends
- D) watching TV in the factory

20. Michael - - - .

- A) is on the farm on weekdays
- B) does activities on weekends
- C) reads books in the mornings
- D) is in the factory in the afternoon



TEST BİTTİ.
CEVAPLARINIZI KONTROL EDİNİZ.

SINAV BAŞLAMADAN AŞAĞIDAKİ UYARILARI MUTLAKA OKUYUNUZ!

1. Öğrenciler, sınav kurallarına ve salon görevlilerinin tüm uyarılarına uymak zorundadırlar.
2. Cevap kâğıdındaki kimlik bilgilerinin doğruluğunu kontrol ediniz. Bilgiler size ait değilse veya cevap kâğıdı kullanılmayacak durumdaysa sınav görevlilerine bildirin.
3. Sınav başladıktan sonra öğrencilerin salon görevlileri ve birbirleri ile konuşmaları, kalem, silgi vb. şeyleri istemeleri yasaktır.
4. Değiştirmek istediğiniz bir cevabı, yumuşak silgiyle cevap kâğıdını yıpratmadan temizce siliniz ve yeni cevabınızı kodlayınız.
5. Cevap kâğıdınızı silinmeyen bir kalemle imzalayınız.
6. Cevaplarınızı, cevap kâğıdındaki ilgili soru numarasını dikkate alarak yuvarlağın dışına taşırmadan kodlayınız.
7. Soru kitapçığının sayfalarını kontrol ediniz, baskı hatası var ise değiştirilmesini sağlayınız.
8. Soru kitapçığı üzerinde yapılp cevap kâğıdına işaretlenmeyen cevaplar değerlendirmeye alınmayacaktır.
9. Soru kitapçığının içindeki boş alanları çözümlerinizi için kullanabilirsiniz.
10. Cevaplamaya istediğiniz sorudan başlayabilirsiniz.
11. Cevabını bilmediğiniz sorular üzerinde fazla zaman kaybetmeden diğer sorulara geçiniz. Zamanınız kalırsa bu sorulara daha sonra dönebilirsiniz.
12. Sınav puanınızın hesaplanmasında 3 yanlış 1 doğru cevabınızı götürecektir. Alt testler bu şekilde hesaplanarak net puanlarının toplamı toplam net puanınızı verecektir.
13. Sınav bitiminde, soru kitapçığı ve cevap kâğıdını salon görevlilerine teslim ediniz.
14. Sınav sırasında çanta, cep telefonu, saat, kablosuz iletişim sağlayan cihazlar ve kulaklık, kolye, küpe, bilezik, yüzük, broş ve benzeri eşyalar ile her türlü elektronik ve/veya mekanik cihazları yanınızda bulundurmuyunuz. Bu araçları yanınızda bulundurmanız ve kopya çekmeye teşebbüs etmeniz hâlinde sınavınız geçersiz sayılacaktır.
15. Cevap kâğıdınızı sınav süresince hiçbir öğrencinin göremeyeceği şekilde önünüzde bulundurunuz.
16. Sınavınızın değerlendirilmesi aşamasında, toplu kopya tespiti veya başka adayın sınav evrakını kullanmanız durumunda sınavınız geçersiz sayılacaktır.
17. Soruları ve sorulara verdiğiniz cevapları kaydetmeyiniz, hiçbir şekilde dışarı çıkarmayınız.
18. İlk 15 dakika dışarı çıkılmayacaktır.
19. Sınav evraklarını teslim etmeyenlerin sınavı geçersiz sayılacaktır.

SINAV GÖREVLİLERİNCE SINAV BAŞLAMADAN ÖNCE ÖĞRENCİLERE YAPILACAK SON UYARI!

- Soracağınız bir şey var mı? Varsa, şimdi sorunuz.
- Sınav başladıktan sonra sorularınıza cevap verilmeyecektir.
- Başlama zilini bekleyiniz.

Hepinize başarılar dileriz.

(Sınav görevlisi başlama ve bitiş saatini tahtaya yazacaktır.)

Bu kitapçığın her hakkı saklıdır. Hangi amaçla olursa olsun, kitapçığın tamamının veya bir kısmının Millî Eğitim Bakanlığı Ölçme, Değerlendirme ve Sınav Hizmetleri Genel Müdürlüğü'nün yazılı izni olmadan kopya edilmesi, fotoğraflarının çekilmesi, bilgisayar ortamına alınması, herhangi bir yolla çoğaltılması, yayımlanması veya başka bir amaçla kullanılması yasaktır. Bu yasağa uymayanlar, doğabilecek cezai sorumluluğu ve kitapçığın hazırlanmasındaki mali külfeti peşinen kabullenmiş sayılır.

**4 HAZİRAN 2017 TARİHİNDE YAPILAN VEHBİ KOÇ VAKFI,
KOÇ ÖZEL İLKOKULU VE ORTAOKULU SEVİYE TESPİT SINAVI
5. SINIFLAR "A" KİTAPÇIĞI CEVAP ANAHTARI**

TÜRKÇE	MATEMATİK	FEN BİLİMLERİ	SOSYAL BİLGİLER
1. A	1. C	1. B	1. D
2. B	2. B	2. C	2. B
3. C	3. A	3. A	3. C
4. B	4. D	4. C	4. A
5. D	5. B	5. A	5. C
6. D	6. C	6. C	6. D
7. C	7. B	7. A	7. A
8. D	8. D	8. B	8. C
9. B	9. D	9. C	9. A
10. C	10. B	10. D	10. B
11. C	11. D	11. D	11. B
12. A	12. A	12. A	12. C
13. D	13. D	13. D	13. D
14. A	14. C	14. B	14. C
15. B	15. B	15. C	15. D
16. B	16. A	16. B	16. B
17. A	17. C	17. A	17. A
18. D	18. A	18. C	18. B
19. A	19. C	19. B	19. A
20. B	20. C	20. B	20. C

İNGİLİZCE

1. C
2. D
3. B
4. C
5. C
6. B
7. B
8. A
9. D
10. A
11. B
12. D
13. A
14. D
15. C
16. B
17. D
18. A
19. C
20. B