

5.
SINIF



B
KİTAPÇIK TÜRÜ

T.C.
MİLLÎ EĞİTİM BAKANLIĞI
ÖLÇME, DEĞERLENDİRME VE SINAV HİZMETLERİ
GENEL MÜDÜRLÜĞÜ

VEHBİ KOÇ VAKFI, KOÇ ÖZEL İLKOKULU VE ORTAOKULU SEVİYE TESPİT SINAVI
(4. Sınıftan 5. Sınıfa Geçenler)
31 MAYIS 2015 Saat: 10.00

Adayın Adı ve Soyadı :

Aday Numarası (T.C. No) :

DERS ADI	SORU SAYISI	TOPLAM SORU SAYISI	SINAV SÜRESİ (DAKİKA)
TÜRKÇE	20	100	120
MATEMATİK	20		
FEN BİLİMLERİ	20		
SOSYAL BİLGİLER	20		
İNGİLİZCE	20		

ÖĞRENCİLERİN DİKKATİNE!

1. Sınıf öğrenci yoklama listesinde belirtilen sınıfta ve sıra numarasında oturunuz.
2. Cevap kâğıdındaki kimlik bilgilerinin doğruluğunu kontrol ediniz.
3. Kitapçık türünü cevap kâğıdındaki ilgili alana kodlayınız.
4. Cevap kâğıdı üzerindeki kodlamaları kurşun kalemle yapınız.

SINAV BAŞLAMADAN ÖNCE KİTAPÇIĞIN ARKA KAPAĞINDAKİ UYARILARI MUTLAKA OKUYUNUZ.

1. (1) Günümüzde, binaların çoğu çok katlı yapılıyor. (2) Artık bir sitede köydeki kadar insan yaşıyor. (3) Sitelerin çevrelerinde dolaşıp gezebileceğiniz kırlar, çayırlar da yok. (4) Bana sorulacak olursa bütün evler tek katlı ve geniş bahçeli yapılmalı.

Bu metindeki numaralanmış cümlelerin hangisinde kişisel bir görüş dile getirilmiştir?

- A) 1. B) 2. C) 3. D) 4.

2. Ülkemizdeki gazete ve dergilerin satış sayıları oldukça düşüktür. Nüfusumuza oranlandığında durumun ne kadar kötü olduğu daha net anlaşılır. Kitap satışlarına baktığımızda da durum pek farklı değildir. Hâlbuki yurdun her şehrinde üniversite açıldı. Anadolu'da neredeyse lisesi olmayan ilçe kalmadı. Yine de basılı yayınların satış sayıları yükselmedi.

Bu parçanın konusu aşağıdakilerden hangisidir?

- A) Okulların yetersizliği
B) Gazete ve dergilerin kalitesizliği
C) Okur sayısının azlığı
D) Kitapların pahalılığı

3. 1. Çarpmak
2. Çarpı
3. Çarpışmak

Numaralanmış sözcüklerin sözlükteki sıralaması aşağıdakilerden hangisidir?

- A) 2 – 1 – 3 B) 2 – 3 – 1
C) 3 – 2 – 1 D) 3 – 1 – 2

4. Aşağıdaki cümlelerin hangisinde “rezil olmak” anlamında bir söz kullanılmamıştır?

- A) Bu yaptığı davranışla maskara oldu.
B) Arkadaşlarımın arasında yerin dibine geçmişim.
C) Bu sözleri söyleyince gülünç duruma düşmüş.
D) Hafta sonunda çalıştığım işte pestilim çıktı.

5. Aşağıdakilerin hangisinde altı çizili sözcük, parantez içinde verilen anlama uygun kullanılmamıştır?

- A) Ben de çayıma şeker koymayı bıraktım. (Unutmak)
B) Bizim takımımız daha ilk turda elendi. (Yarışma dışı kalmak)
C) Bu gemi fırtınalara iyi dayandı. (Zarar ve hasar görmemek)
D) Rüzgâr esince masanın üzerindeki kâğıtlar karıştı. (Düzensiz, dağınık olmak)

6. Aşağıdaki cümlelerin hangisinde abartılı bir anlatıma başvurulmuştur?

- A) Yağmur sonrasında birçok iş yerini ve evi sel basmıştı.
- B) Odada uçuşan rengârenk balonlar hepimizi şaşırtmıştı.
- C) Dalları göğe değen ağaçların arasından yavaş yavaş yürüdük.
- D) Etraflarına düşen top güllerine rağmen savaşıyorlardı.

7. En dar en karanlık sokaklar

Çok yakında bir gün
Çok yakında bir gün
Bayramlaşıp ışıyacaklar
Hürriyet giyecek aydınlık ayaklar

Bu dizelerin ana duygusu aşağıdakilerden hangisidir?

- A) Yaşama sevinci
- B) Umut
- C) Vatan sevgisi
- D) Mutluluk

8. O zaman bavulumu alıp giderim

Bu şehirde geçen hayatımı doldururum içine
Terliklerimi tahta masamı bütün sevdiklerimi
Bir de o uzun yasımı koyarım
Hiçbirini incitmeden kararlı ellerimle

Aşağıdakilerden hangisi bu dizelerde verilen hayalî öğelerden değildir?

- A) Bavulunu alıp şehirden gitmesi
- B) Bavuluna şehirde geçen hayatını doldurması
- C) Bavuluna tahta masasını ve bütün sevdiklerini doldurması
- D) Uzun yasını bavuluna koyması

9. "Zor" sözcüğü aşağıdakilerin hangisinde bir adı niteleyecek biçimde kullanılmıştır?

- A) Babamın anlattığı olayları zor anladım.
- B) Zor yürüyorduk şiddetli rüzgârdan dolayı.
- C) Ben zor oyunları daha çok severim.
- D) Sinirli adamı üç kişi zor sakinleştirdik.

10. Aşağıdaki cümlelerin hangisinde büyük harflerin yazımıyla ilgili bir yanlışlık yapılmıştır?

- A) Uzay gemisi, Mars'ın yüzeyinde araştırmalar yapıyor.
- B) 1. İnönü savaşı 1921 yılında yapılmıştır.
- C) Hafta sonları da Milli Kütüphane açılmış.
- D) Yurt dışına gidip Fransızca öğrenecekmış.

11. Kardeşim bana "Yaz tatilinde sabah - akşam basket antrenmanı mı yapacaksın?" dedi.

Bu cümlede aşağıdaki noktalama işaretlerinden hangisi yanlış kullanılmıştır?

- A) Tırnak işareti
- B) Nokta
- C) Soru işareti
- D) Kısa çizgi

12. 1. Ülkenin kuzeyindeki bu sulak alanda otuz binden fazla turna buluşuyor.
2. Binlerce turist de bu müthiş koroyu dinlemeye geliyor.
3. Dünyanın en çarpıcı kuş gösterilerinden biri her yıl İsrail'in kuzeyindeki Hula Vadisi'nde yaşanır.
4. Bu hayranlık uyandırıcı buluşmada Hula Vadisi'ni kuş sesleri dolduruyor.

Numaralanmış cümlelerle anlamlı bir metin oluşturulduğunda sıralama aşağıdakilerden hangisi olur?

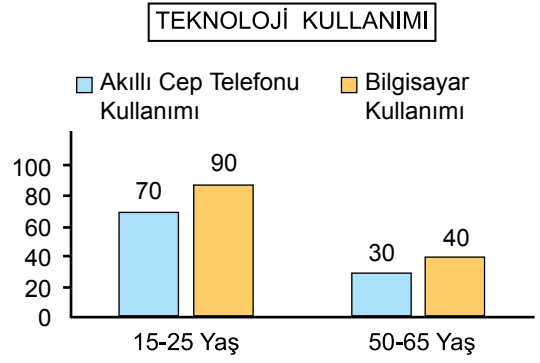
- A) 1 – 3 – 2 – 4 B) 1 – 2 – 4 – 3
C) 3 – 1 – 4 – 2 D) 3 – 4 – 2 – 1

13. Nasrettin Hoca, Türk kültüründe güldürücü özelliğiyle karşımıza çıkar. Kimi kaynaklar Akşehirli kimi kaynaklar da Sivrihisarlı olduğunu söyler. Nasrettin Hoca Azerbaycan'da Molla Nasreddin, Çin'de Afandi olarak bilinir. Fıkralarında karşımıza kimi zaman köylü, imam, kayıkçı kimi zaman da doktor, öğretmen, hâkim olarak çıkar. "Bindiği dalı kesmek, ipe un sermek" gibi deyimleri dilimize kazandıran da Nasrettin Hoca fıkraları olmuştur.

Bu parçada Nasrettin Hoca ile ilgili aşağıdakilerden hangisine değinilmemiştir?

- A) Nereli olduğunun kesin olarak bilinmediğine
B) Fıkralarının hâlâ çok ilgi gördüğüne
C) Başka ülkelerde farklı isimlerle tanındığına
D) Bazı sözlerinin deyim olarak kullanıldığına

14.



Bu grafiğe göre aşağıdaki sonuçlardan hangisine ulaşamaz?

- A) Yaşlılar teknolojik cihazları gençlere göre daha az kullanmaktadır.
B) Cep telefonu, bilgisayardan daha çok kullanılmaktadır.
C) Gençler, bilgisayarı yaşlılardan çok kullanmaktadır.
D) Gençler cep telefonunu bilgisayardan daha az kullanmaktadır.

15. **Aşağıdaki sözcüklerden hangisi, "-lık" eki aldığında "içine bir şey konacak kap, eşya" anlamı kazanmaz?**

- A) Göz B) Tuz
C) Kalem D) Şeker

16. **Aşağıdaki cümlelerin hangisinde eylemin her zaman yapıldığı anlamı vardır?**

- A) Bazen arkadaşarımla tenis oynuyorum.
B) Çocukları arada sırada köye götürüyorum.
C) Ben lise arkadaşarımla hep görüşüyorum.
D) Zaman zaman kitaplarımla tozunu alıyorum.

17, 18, 19 ve 20. soruları kitapçık
üzerinde cevaplandırınız.



17.

İnsanlar yaşlandıkça, ihtiyarladıkça daha hoşgörülü oluyor. Kızgınlık ve öfke duygularını bastırabiliyor. Çünkü her geçen yıl, her geçen sene insan olgunlaşıyor.



Kemal Bey

Gereksiz sözcük kullanmamak güzel ve etkili konuşmanın koşullarından biridir. Bu açıklamaya göre Kemal Bey'in konuşmasındaki gereksiz sözcük veya sözcükler nelerdir? Yazınız.

18. Fransız kimyacı, içinde kimyasal bir madde olan deney tüpünü yere düşürür. Cam tüpün kırıldığını ama tüpün içinde oluşan plastik bir katmanın cam parçalarını bir arada tuttuğunu anlar. Böylece günümüzde, başta otomobil camları olmak üzere birçok yerde kullanılan güvenli camı bulur. 1879 yılında da bir üniversite öğrencisi kömür katranındaki hidrokarbonla ilgili bir araştırma yaparken farkında olmadan elindeki maddeyi tadar. Günümüzde şeker hastalarının kullandığı "sakarin" adı verilen yapay tatlandırıcı da böyle ortaya çıkar.

Bu metinden çıkarılacak ana düşünce nedir? Bir ya da iki cümleyle yazınız.

19. Arkadaşım Hasan doğayı çok sever. Doğayı korumamız gerektiğini yoksa insanların zor durumda kalacağını her zaman dile getirir. Doğada vakit geçirmeyi çok sevdiği için de evimizin yakınındaki büyük parka sık sık gideriz. Geçen gün yine onunla parka gittik. Bir süre oynadık, karnımız acıkınca bir paket bisküvi ve meyve suyu aldık, afiyetle yiyip içtik. Yiyeceklerin paketlerini ağacın dibine atıp salıncaklara koşturduk. Bayağı oynadık, yorulmuştuk. Dinlenmek için bir ağacın altına oturduk. Hasan, "İkimizin dostluğunu ölümsüzleştirmek istiyorum." dedi. Yerden bulduğu çiviyle adlarımızı ağacın gövdesine kazıdı.

Bu metinde, Hasan'ın davranışlarındaki çelişkili durumlar nelerdir? Yazınız.

20. Aşağıda Mehmet ile Hakan'ın ilgi alanları verilmiştir. İkisi öğleden sonra birlikte aynı kursa gitmek istemektedirler.

İlgi alanları da göz önünde bulundurulduğunda hangi kursa gidebilirler? Yazınız.

Mehmet

Spor yapmak
Müzik

Hakan

Tiyatro
Spor yapmak

	Gitar	Tenis	Koro	Drama	Yüzme
Pazartesi		09.00 10.00			
Salı					16.00 17.00
Çarşamba			10.00 11.00	11.00 12.00	
Perşembe	15.00 16.00				
Cuma				14.00 15.00	



1. İlker, bilyelerinin $\frac{2}{7}$ 'sini Hasan'a, $\frac{1}{7}$ 'ini de Zeki'ye veriyor. Kalan bilyeler, tüm bilyelerin kaçta kaçtır?

- A) $\frac{4}{7}$ B) $\frac{3}{7}$ C) $\frac{2}{7}$ D) $\frac{1}{7}$

2. Aşağıdakilerden hangisinin onlar basamağı ile yüzde birler basamağındaki rakamların basamak değerleri toplamı 40,05'tir?

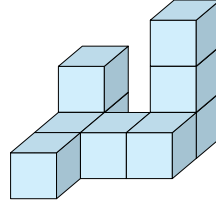
- A) 43,52 B) 42,35 C) 34,25 D) 24,53

3. Bir ikizkenar üçgenin çevresinin uzunluğu 34 santimetredir.

Aşağıdakilerden hangisi bu ikizkenar üçgenin kenar uzunluklarından ikisidir?

- A) 8 cm, 13 cm B) 8 cm, 14 cm
C) 10 cm, 16 cm D) 7 cm, 12 cm

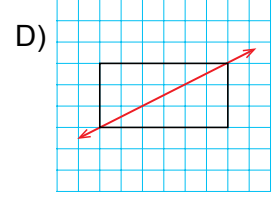
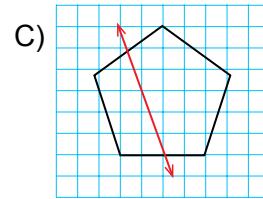
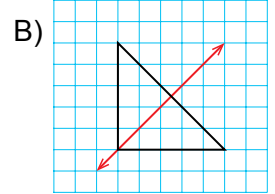
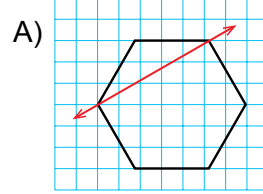
4.



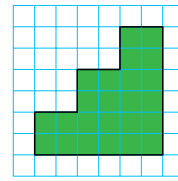
Yukarıdaki yapı en az kaç tane birim küp ile oluşturulmuştur?

- A) 7 B) 8 C) 9 D) 10

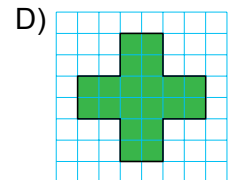
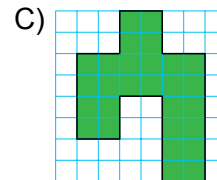
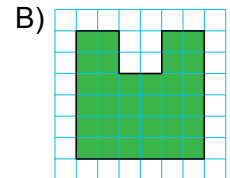
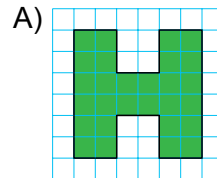
5. Aşağıdaki düzlemsel şekillerin hangisinin üzerine çizilen doğru şeklin simetri doğrusudur?



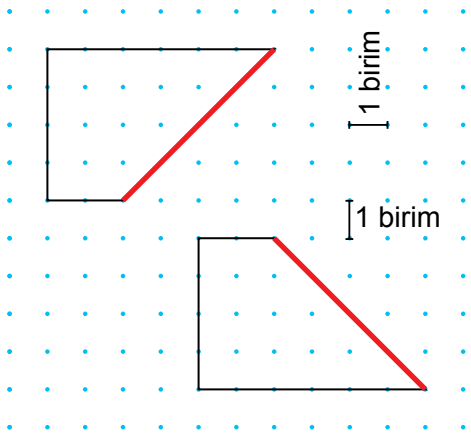
6.



Yanda verilen şeklin çevresinin uzunluğu aşağıdaki şekillerden hangisinin çevresinin uzunluğuna eşittir?

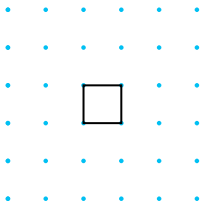


7.

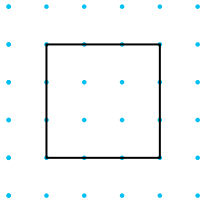


Şekildeki dörtgenlerin kırmızı renkli kenarları çakıştırılıyor. Elde edilen şekil aşağıdaki dörtgenlerden hangisi ile tamamlanınca bir kenarının uzunluğu 6 birim olan kare elde edilir?

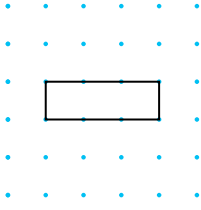
A)



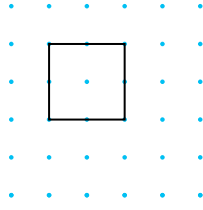
B)



C)



D)



8. 1 dakikada 70 kez atan bir kalp, yarım saatte kaç kez atar?

A) 1800 B) 1900 C) 2100 D) 2200

9. Aşağıdaki sayılardan hangisi en yakın yüzlüğe yuvarlandığında 5300, en yakın onluğa yuvarlandığında 5270 bulunur?

A) 5370 B) 5275 C) 5266 D) 5168

10. Van Gölü'nün alanı 3713 km^2 dir. Van Gölü'nün alanı Beyşehir Gölü'nün alanından 3057 km^2 daha büyüktür. Beyşehir Gölü'nün alanı ise Eğirdir Gölü'nün alanından 174 km^2 daha büyük olduğuna göre, Eğirdir Gölü'nün alanı kaç kilometrekaredir?

A) 658 B) 582 C) 493 D) 482

11.

$$\begin{array}{r} 345 \\ \times \quad \cdot \cdot \\ \hline \cdot \cdot 25 \\ \times 34 \cdot \\ \hline \cdot \cdot \cdot \cdot \end{array}$$

Verilen çarpma işleminde çarpım kaçtır?

A) 5175 B) 5865 C) 6555 D) 8625

12. Çağın 288 sayfalık bir kitabın yarısını günde 12'şer sayfa, kalan kısmını günde 16'şar sayfa okuyarak bitirmiştir. Çağın bu kitabın tamamını kaç günde okumuştur?

- A) 10 B) 18 C) 21 D) 24

13. Bir okuldaki 840 öğrencinin $\frac{3}{5}$ 'ü erkek öğrencidir. Bu okuldaki erkek öğrencilerin sayısı kız öğrencilerin sayısından kaç fazladır?

- A) 126 B) 168 C) 189 D) 209

14.

	Miktar	Fiyat
Portakal suyu	200 ml	2 lira
Nar suyu	250 ml	4 lira
Elma suyu	125 ml	1 lira
Mandalina suyu	500 ml	3 lira

Taze meyve suyu satan bir dükkandaki fiyat listesi yukarıda verilmiştir. Nilay 2 farklı meyve suyundan birer litre alacaktır. Nilay en az kaç lira öder?

- A) 12 B) 14 C) 16 D) 18

15. Can'ın bindiği asansörün taşıma kapasitesi 1 ton 70 kg'dır. Kütlesi 80 kg olan Can eşit kütleli 15 kutuyla birlikte yukarı çıkmaktadır. Bu kutuların her birinin kütlesi en fazla kaç kilogramdır?

- A) 6 B) 16 C) 56 D) 66

16. Aşağıdakilerden hangisi yanlıştır?

- A) 436 cm = 4 m 360 mm
 B) 12400 mm = 120 m 40 cm
 C) 472 m = 2 m 47000 cm
 D) 3750 m = 3 km 750 m


17, 18, 19 ve 20. soruları kitapçık
üzerinde cevaplandırınız.



Kişiler	Kitap Sayısı
Altuğ	### IIII
Tuna	###
Sena	### I
Birsen	III

Yukarıdaki çetele tablosunda dört arkadaşın yaz tatilinde okudukları kitapların sayıları verilmiştir.

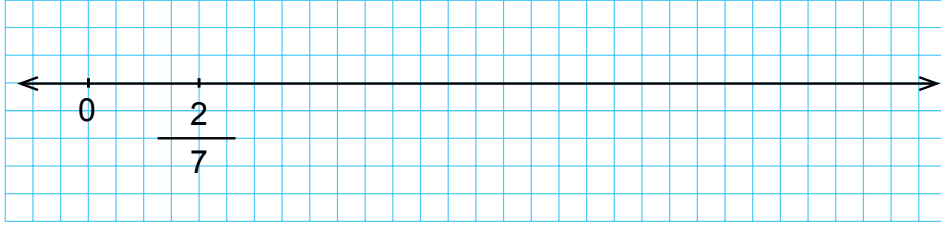
17. Tablodaki verilere göre bir sütun grafiği çiziniz.



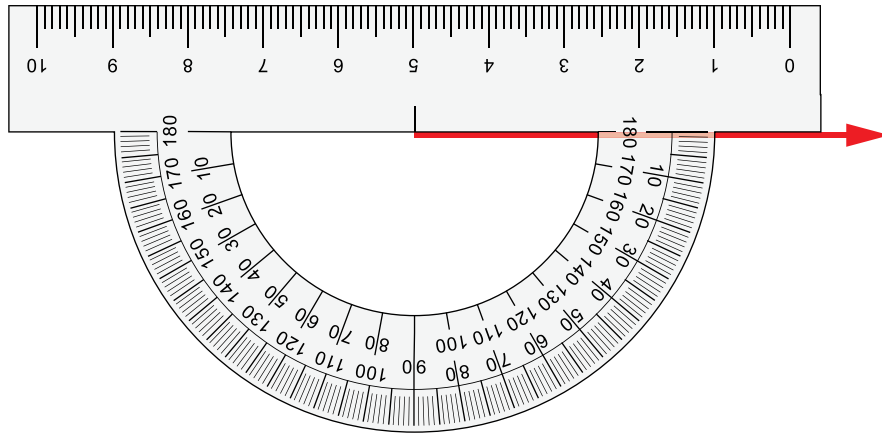
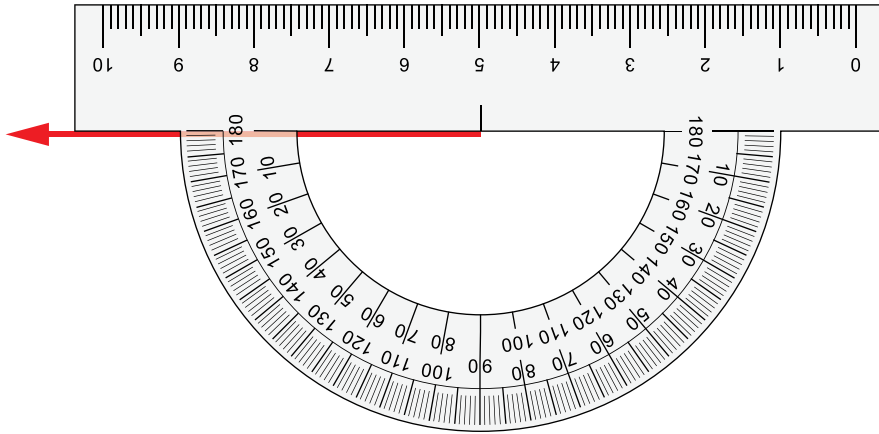
18. Sütunların eşit uzunlukta olması için her bir öğrenci en az kaç kitap daha okumalıdır? İşlem yaparak bulunuz.



19.



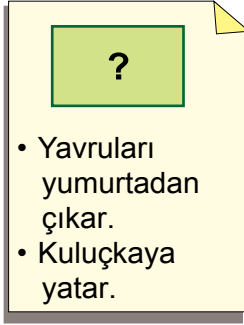
Yukarıdaki sayı doğrusunda 0 ve $\frac{2}{7}$ kesirleri ile eşleşen noktalar verilmiştir. Kareli zemini kullanarak $\frac{13}{7}$ kesrinin hangi noktayla eşleştiğini işaretleyerek gösteriniz.

20. Aşağıdaki açıölçerleri kullanarak 125° lik açılarını çizin.

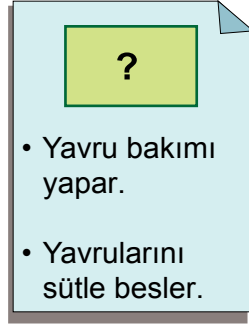
MATEMATİK TESTİ BİTTİ.
FEN ve TEKNOLOJİ TESTİNE GEÇİNİZ.



1. Öğrenciler, şekildedeki kartlarda verilen özelliklere sahip canlılara örnekler yazacaklardır.



- Yavruları yumurtadan çıkar.
- Kuluçkaya yatar.




- Yavru bakımı yapar.
- Yavrularını sütle besler.

Buna göre aşağıdaki hayvanlardan hangisi “?” ile gösterilen yerlerin hiçbirine yazılamaz?

- A) İnek B) Kedi
C) Tavuk D) Kurbağa

2.



Bu resimde ip atlayan öğrencinin I ve II numaralı kasları için aşağıdakilerin hangisinde verilenler doğrudur?

	I	II
A)	Kasılmış	Kasılmış
B)	Gevşemiş	Gevşemiş
C)	Kasılmış	Gevşemiş
D)	Gevşemiş	Kasılmış

3. Bazı kemikler yarı oynar eklemlerle birbirine bağlıdır.

Buna göre, bu eklem çeşidiyle bağlanan kemiklerin şekli ve bulunduğu kısım aşağıdakilerin hangisinde doğru olarak verilmiştir?

	Kemiklerin şekli	Bulunduğu kısım
A)		Omurganın boyun bölgesi
B)		Kafatası
C)		El
D)		Gövde

4. İnsanda dışarıdan alınan havanın vücutta geçtiği organların bir bölümü aşağıda karışık olarak verilmiştir.

- I. Akciğerler
II. Gırtlak
III. Yutak
IV. Soluk borusu

Alınan hava sırasıyla hangi organlardan geçer?

- A) III - II - IV - I B) II - III - IV - I
C) IV - III - I - II D) IV - II - I - III

5. I. Kablonun içindeki teller kopar.
II. Isıtıcının soğuması çok uzun zaman alır.
III. Isıtıcı tekrar çalıştırıldığında elektrik çarpar.

Elektrikli su ısıtıcısının fişini kablosundan çekip prizden çıkarttığımızda yukarıdaki-lerden hangileri meydana gelebilir?

- A) Yalnız I
B) I ve II
C) I ve III
D) II ve III

6.

ELEKTRİKLİ ARAÇLAR	KULLANDIKLARI KAYNAKLAR
<ul style="list-style-type: none"> • Buzdolabı • Duvar saati • Cep telefonu 	<ul style="list-style-type: none"> • Şehir ceryanı • Batarya • Akü • Pil

Yukarıdaki elektrikli araçlar ile günlük hayatta yaygın olarak kullandıkları kaynaklar eşleştirildiğinde hangi kaynak açıkta kalır?

- A) Batarya
B) Şehir ceryanı
C) Pil
D) Akü

7. Dünya'nın katmanları ile ilgili bir etkinlik için öğrenciler aşağıda numaralandırılmış afişleri hazırlıyorlar.



Dünya yüzeyinin
Dörtte birini kaplarım
Kayaç ve topraktan oluşur yapım
Farklı canlılar barındırırım.



Dünya'yı Güneş'in zararlı ışınlarından
Korumaktır bir görevim
Gözünle göremezsin beni
Dünya'yı çepeçevre sararım.



Deniz, göl ve okyanustur içeriğim
Yer altı su kaynaklarını da
unutmayalım
Bir çok canlı çeşidine
Ev sahipliği yaparım.

Bu afişler hangi katmanları tanıtmaktadır?

	I	II	III
A)	Hava küre	Taş küre	Su küre
B)	Taş küre	Su küre	Hava küre
C)	Su küre	Hava küre	Taş küre
D)	Taş küre	Hava küre	Su küre

8. Semih, aynı sesi değişik uzaklıklardan dinlediğinde ses şiddetinin değiştiğini göstermek istiyor.

Semih, amacına ulaşmak için aşağıdaki etkinliklerden hangisini yapmalıdır?

- A) Çalar saatinin sesini kulağına yaklaştırıp uzaklaştırarak dinlemelidir.
B) Önce çalar saatinin sonra kol saatinin sesini farklı uzaklıktan dinlemelidir.
C) Çalar saatini önce yastık altına koyarak dinleyip sonra masa üzerine koyarak bir öncekinden farklı uzaklıktan dinlemelidir.
D) Çalar saatinin sesini, çalar saate eşit uzaklıkta bulunan arkadaşıyla birlikte dinlemelidir.

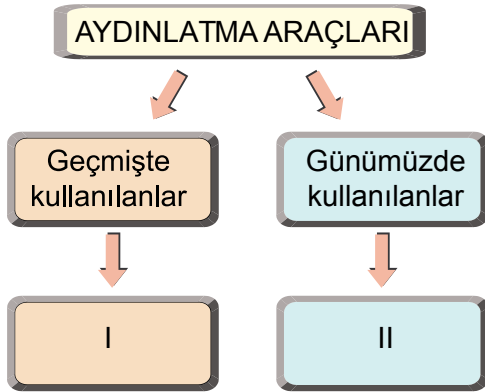
9. Öğretmen bir soru sormuş ve öğrenciler aşağıdaki doğru cevapları vermiştir.



Buna göre, öğretmenin sorusu aşağıdakilerden hangisidir?

- A) Işık kirliliği nedir?
B) Işık kirliliğinin olumsuz etkileri nelerdir?
C) Işık kirliliğini azaltmak için alınabilecek önlemler nelerdir?
D) Işık kirliliğinin nedenleri nelerdir?

10. Geçmişten günümüze yaygın olarak kullanılan aydınlatma araçları ile ilgili şekildeki gibi bir şema hazırlanmıştır.



Bu şemada I ve II ile gösterilen yerlere yazılabilecek örnekler aşağıdakilerin hangisinde doğru olarak verilmiştir?

- | | I | II |
|----|-------------|-------------------------|
| A) | Gaz lambası | Enerji tasarruflu lamba |
| B) | Meşale | Gaz lambası |
| C) | Kandil | Meşale |
| D) | LED lamba | Enerji tasarruflu lamba |

11. Farklı iki cisme kuvvet uygulayan Umut, kuvvetin etkisi kaldırıldıktan sonra bu cisimlerden sadece bir tanesinin tekrar eski şekline döndüğünü söylüyor.

Buna göre Umut, hangi cisimlere kuvvet uygulamış olabilir?

- A) Balon ve sünger
B) Lastik top ve oyun hamuru
C) Yay ve paket lastiği
D) Tahta masa ve cam bardak

12. Hareket eden varlıkların herhangi bir andaki durumlarına şekildeki numaralandırılmış örnekler veriliyor.



I

Hareket eden atlıkarınca



II

Yeşil ışık ile harekete başlayan bir araba



III

Hareket eden beşikte uyuyan bir bebek

Buna göre, bu varlıkların hareketleri aşağıdakilerin hangisinde doğru olarak verilmiştir?

- | | I | II | III |
|----|----------|-----------|----------|
| A) | Dönme | Yavaşlama | Sallanma |
| B) | Sallanma | Hızlanma | Dönme |
| C) | Dönme | Hızlanma | Sallanma |
| D) | Hızlanma | Yavaşlama | Dönme |

13. Pelin, deney için hazırladığı tuzlu su çözeltisinden birkaç damla alıp cam kabın üzerine şekildeki gibi damlatıyor.

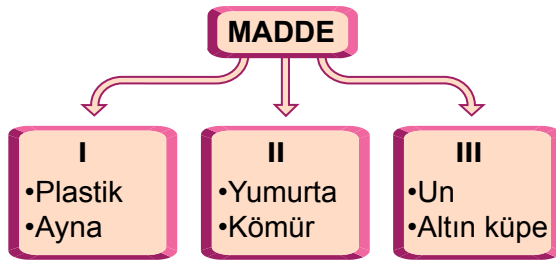


Çözelti kuruduktan sonra kabın üzerinde kalan kalıntının tuz olduğunu gözlemliyor.

Bu gözleme göre, Pelin'in deneyinin amacı aşağıdakilerden hangisidir?

- A) Erime ve çözünme arasındaki farkı açıklamak
B) Tuzun suda çözündüğünü göstermek
C) Tuzlu suyun kütlesinin değişmediğini göstermek
D) Suda çözünen tuzun kaybolmadığını göstermek

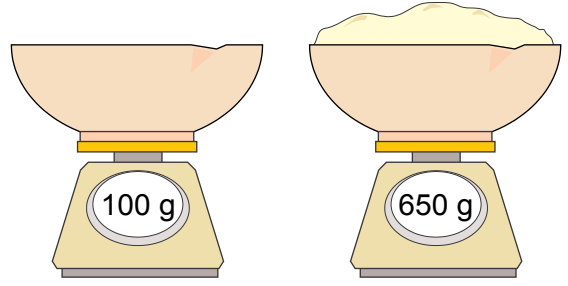
14. Şemada sınıflandırılmış maddelere örnekler verilmiştir.



Buna göre şemada I, II ve III ile gösterilen yerlere aşağıdakilerin hangisinde verilenler yazılmalıdır?

- | | I | II | III |
|----|----------|----------|----------|
| A) | Doğal | İşlenmiş | Yapay |
| B) | Yapay | Doğal | İşlenmiş |
| C) | İşlenmiş | Doğal | Yapay |
| D) | Yapay | İşlenmiş | Doğal |

15. Elif, unun kütlesini ölçmek için aynı kabı önce içi boşken sonra içi un doluyken şekildeki gibi tartı aletinde ölçüyor.



Buna göre unun kütlesi aşağıdakilerden hangisidir?

- A) 450 gram B) 650 gram
C) 550 gram D) 750 gram

16. Bir öğrenci, tabloda verilen varlıkları özelliklerine göre sınıflandırıyor.

Varlık adı	Cisim	Malzeme	Eşya	Alet
Cam tabak	✓		✓	
●		✓		
▲	✓			✓


Tabloya göre, ● ve ▲ ile gösterilen varlıkların adları aşağıdakilerden hangisidir?

- | | | |
|----|--------|--------|
| | ● | ▲ |
| A) | Çekiç | Süt |
| B) | Süt | Çekiç |
| C) | Peçete | Süt |
| D) | Süt | Peçete |

17, 18, 19 ve 20. soruları kitapçık üzerinde cevaplandırınız.



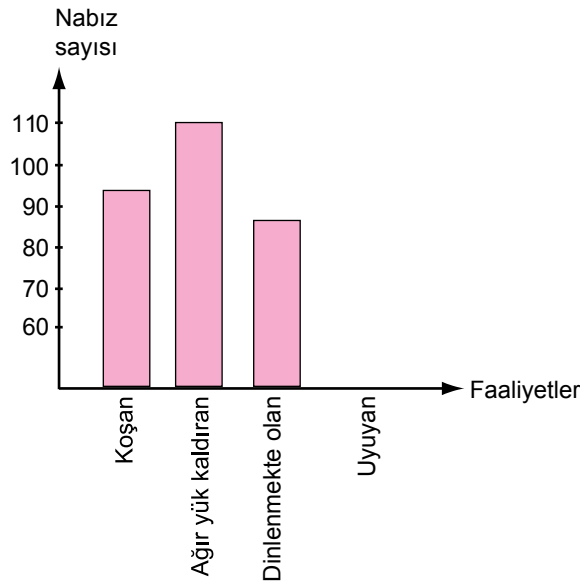
17. Bir deneyde mikroskobik canlıların sadece nemli ortamda besinler üzerinde çoğaldığı gösterilmek isteniyor.



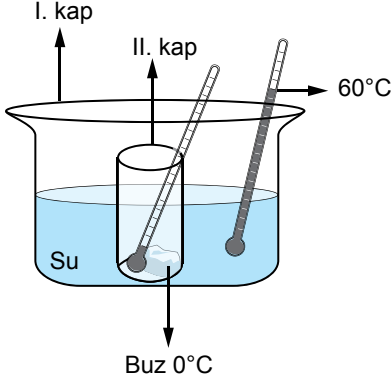
Buna göre ekmekte küflenme olayını gözlemek için şekilde verilen malzemelerin hepsini kullanarak nasıl bir deney düzeneği hazırlanmalıdır? Aşamalar halinde yazınız.

18. Grafik, sağlıklı yetişkin bir insanın bazı faaliyetlerinin bir dakikadaki nabız sayısını göstermektedir.

Buna göre bu insanın uyurken bir dakikadaki nabız sayısını gösteren sütunu, grafiğe çiziniz.



19. Zeynep şekildeki gibi deney düzeneğini kuruyor ve deney boyunca belirlediği aralıklarla gözlemlerini not ediyor.



Zeynep'in gözlemleri;

- I. kaptaki suyun sıcaklığı düşüyor.
- Buz erimeye başlıyor.
- Kaptaki buz tamamen eriyor.
- II. kaptaki suyun sıcaklığı artıyor.
- Her iki kaptaki suyun sıcaklığı aynı oluyor.

Zeynep'in bu gözlemlerinden, maddenin ısı alışverişi ile ilgili çıkarabileceği sonucu yazınız.

20. Ahmet ve babası otomobil ile gece seyahate çıkarlar. Yolda kaza yapmış bir otomobil sürücüsünün yola reflektör koyduğunu görürler. Ahmet, babasına, reflektörden yansıyan ışığın gözüne geldiğini söyler.

Ahmet'in gözlemlendiği ışık kaynağına benzer iki örnek veriniz.

1

2

FEN ve TEKNOLOJİ TESTİ BİTTİ.
SOSYAL BİLGİLER TESTİNE GEÇİNİZ.



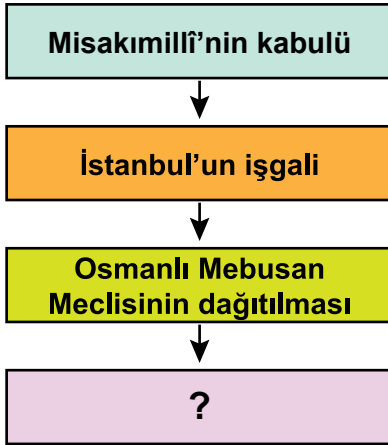
1. Kars ve çevresini alarak doğu illerimizi Ermeni işgalinden kurtaran komutan, aşağıdakilerden hangisidir?

- A) İsmet İnönü
- B) Kâzım Karabekir
- C) Refet Bele
- D) Ali Fuat Cebesoy

2. Mustafa Kemal Paşa "Hattı müdafaa yoktur, sathı müdafaa vardır. O satıh bütün vatanıdır. Vatanın her karış toprağı vatandaşın kanıyla ıslanmadıkça terk edilemez." sözünü hangi savaş sırasında söylemiştir?

- A) I. İnönü Savaşı
- B) II. İnönü Savaşı
- C) Sakarya Savaşı
- D) Başkumandan Meydan Savaşı

3.



Verilen sebep - sonuç zinciri, aşağıdakilerden hangisiyle devam ettirilmelidir?

- A) Amasya Genelgesi'nin yayımlanması
- B) Sivas Kongresi'nin toplanması
- C) Tekâlif-i Milliye Emirlerinin ilan edilmesi
- D) Büyük Millet Meclisinin açılması

4. Mustafa Kemal Paşa, illerdeki asker ve sivil idarecilere gizlice gönderdiği Havza Genelgesi'yle onlardan halkı işgaller konusunda bilgilendirmelerini, işgalleri protesto için mitingler düzenlemelerini istedi.

Mustafa Kemal bu isteği ile aşağıdakilerden hangisini amaçlamıştır?

- A) Toplumunu çağdaşlaştırmayı
- B) Millî egemenliği sağlamayı
- C) Millî bilinci uyandırmayı
- D) Millî eğitimi gerçekleştirmeyi

5. Aşağıdakilerden hangisi depremlerin zararlarını en aza indirmek için alınacak bir önlem değildir?

- A) Deprem çantası hazırlanmalı
- B) Doğal bitki örtüsü korunmalı
- C) Binalar yapı kurallarına uygun yapılmalı
- D) Binaların depreme dayanıklılığı kontrol edilmeli

6. Kutup yıldızı her zaman hangi yönü gösterir?

- A) Doğu
- B) Batı
- C) Kuzey
- D) Güney

7. Meteoroloji uzmanları uzun yıllar boyunca gözlemler yaparak bir yerin ortalama hava şartlarını yani - - - - belirlerler.

Yukarıdaki cümlede boş bırakılan yere aşağıdakilerden hangisi gelmelidir?

- A) İklimini
- B) Hava durumunu
- C) Sıcaklığını
- D) Nemini

8. Enerji üretiminde petrol, doğalgaz gibi doğal kaynakların giderek azalması ve fiyatlarının yüksek olması gelişmiş ülkelerin diğer enerji kaynaklarına yönlendirmiştir.

Aşağıdaki enerji kaynaklarından hangisi gelişmiş ülkelerin enerji ihtiyacının büyük bir kısmını karşılar?

- A) Nükleer enerji
- B) Güneş enerjisi
- C) Rüzgar enerjisi
- D) Dalga enerjisi

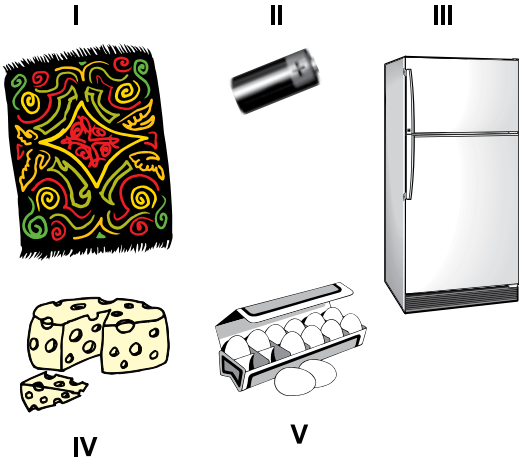
9. Aşağıdakilerden hangisi doğal unsur değildir?

- A) Toprak B) Bitki
C) Akarsu D) Tünel

10. Aşağıdakilerden hangisi ormanların faydalarından değildir?

- A) Yaşamımız için oksijen üretirler.
B) Heyelan, çığ, sel gibi doğal afetleri önler.
C) Deprem oluşma ihtimalini azaltır.
D) Orman ürünleri ile ekonomik fayda sağlar.

11.



Yukarıda görselleri verilen ürünlerden hangilerini satın alırken üretim ve son kullanma tarihine dikkat etmemiz gerekir?

- A) II. ve III. B) IV. ve V.
C) II, IV. ve V. D) I, IV. ve V.

12. Her toplumun kendi kültürünün yansıması olan, uzun zamandır oynanan geleneksel oyunları vardır.

Aşağıdakilerden hangisi Türk toplumunun geleneksel oyunlarından değildir?

- A) Horon B) Cirit
C) Halay D) Futbol

13. Askerde yazdığımız - - - - karşılığı en az bir ayda gelirdi. Şimdi ise dünyanın bir ucundaki kimseyle - - - - sayesinde anında iletişim kurabiliyoruz.

Verilen cümledeki boşluklara aşağıdakilerden hangileri getirilmelidir?

- A) Mektubun - cep telefonu
B) Faksın - internet
C) Telgrafın - mektup
D) Bilgisayarın - gazete

14. Bir kişinin nüfus cüzdanına bakılarak aşağıdakilerden hangisi öğrenilemez?

- A) Cinsiyeti B) Ana adı
C) Kişiliği D) Dini

15. Aşağıda verilenlerin hangisinde seçimle iş başına gelen yöneticiler doğru olarak verilmiştir?

- A) Vali –Kaymakam
B) Kaymakam – Muhtar
C) Vali – Belediye başkanı
D) Belediye başkanı - Muhtar


16. Aşağıdakilerden hangisi belediyelerin yaptığı hizmetlerden değildir?

- A) Evlenmek isteyenlerin nikah işlemlerinin yapılması
B) Park ve oyun alanlarının yapımı ve onarımı
C) Şehirlerarası yolların yapımı ve bakımı
D) Sağlıklı içme suyunun temini

17, 18, 19 ve 20. soruları kitapçık üzerinde cevaplandırınız.



17.



Yukarıdaki resime ilişkin duygu ve düşüncelerinizi anlatan birer cümle yazınız.

<p>Duygu cümlesi:</p> <hr/> <hr/> <hr/>
<p>Düşünce cümlesi:</p> <hr/> <hr/> <hr/>

18. Türkiye bir deprem ülkesidir. Bu yüzden depremle yaşamayı öğrenmeliyiz.

Olası bir depreme karşı alacağımız ilk 5 önlemimiz nedir? Yazınız.

1	<hr/>
2	<hr/>
3	<hr/>
4	<hr/>
5	<hr/>
	<hr/>







19. Balıkesir Lisesi'nin 1916 - 1917 kayıtlarında 10., 11. ve 12. sınıflarda öğrenci bulunmadığı yazılıdır.

Dönemin siyasi ve sosyal olaylarını gözönünde bulundurarak öğrenci olmayışının sebebini yazınız.

<hr/> <hr/> <hr/> <hr/> <hr/> <hr/> <hr/>

20. Beliz, öğretmenin verdiği ödevi yapmak için son iki hafta boyunca Ankara'nın hava olaylarını gözlemledi. Yaptığı gözlem sonunda 3 günün güneşli, 2 günün yağmurlu, 2 günün rüzgârlı, 2 günün sisli, 1 günün karlı, 4 günün de bulutlu olduğunu tespit etti.

Beliz'in gözlem sonuçlarını aşağıdaki sembolleri kullanarak resimli grafik hâline getiriniz?

Hava Olayı	Sembol
Güneşli	
Yağmurlu	
Rüzgarlı	
Sisli	
Karlı	
Bulutlu	

Sayı



Hava Olayları

SOSYAL BİLGİLER TESTİ BİTTİ.
İNGİLİZCE TESTİNE GEÇİNİZ.



1 - 11. sorularda boş bırakılan yere uygun gelen kelime ya da ifadeyi işaretleyiniz.

1. Kevin : May I leave the class?
Teacher : - - - -, not right now.

- A) Thank you B) Sure
C) Sorry D) Of course

2. Jacob : - - - -?
Michael : Here you are.

- A) Can I help you
B) What time is it
C) Where is the box
D) May I borrow your pen


3. David : - - - -?
Carl : It is in Australia.

- A) Where are you from
B) Where is New Zealand
C) What do you do at noon
D) What is "pen" in English

4. Mel : What do you do in the evening?
Jack : - - - - .

- A) It is in Europe
B) It is windy today
C) I can climb a tree
D) I do my homework


5.



Sude : Where is the rabbit?
Matt : - - - - .

- A) It is on the bear
B) It is under the bear
C) It is behind the bear
D) It is in front of the bear

6.



- A) Give me the ruler, please
- B) Turn on the light, please
- C) Clean the board, please
- D) Sit down, please

7.



- A) Turn around
- B) Play the piano
- C) Open your book
- D) Take your umbrella

8.



He's Metin. He's a ---- and he works at the ----.

- A) fireman / fire station
- B) doctor / hospital
- C) teacher / school
- D) pilot / airport

9.



Efe has brown ---- and ---- hair.

- A) moustache / curly
- B) freckles / blond
- C) beard / straight
- D) eyes / wavy

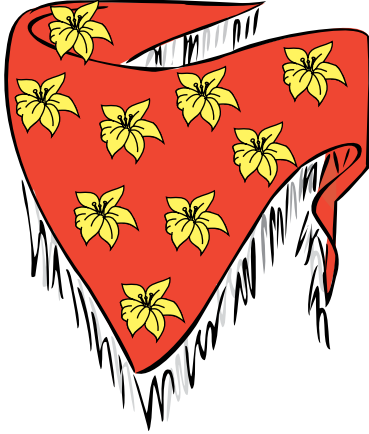
10. Begüm is - - - - .



Begüm

- A) shy
C) cheerful
B) angry
D) rude

11.



The - - - - are on the - - - - .

- A) leaves / sweater
C) flowers / dress
B) flowers / scarf
D) trees / skirt

12.

John	Mary	Jane	Amy

Yukarıdaki tabloya göre hangi seçenek doğrudur?

- A) Jane has got a teddy bear.
B) Mary has got a computer.
C) Amy has got a guitar.
D) John has got a ball.

13.


A K I N				

= YES = NO

Yukarıdaki tabloya göre hangi seçenek doğrudur?

- A) Akin likes flying a kite.
B) Akin likes singing a song.
C) Akin doesn't like playing chess.
D) Akin doesn't like riding a bicycle.

14.



What is the time?

- A) It's eleven o'clock.
- B) It's eleven, twenty.
- C) It's four o'clock.
- D) It's four, eleven.


15. Aşağıdaki cümle hangi seçeneği ifade etmektedir?

"It's sunny today."

A)



B)




C)



D)



16.




What does she do in the morning?

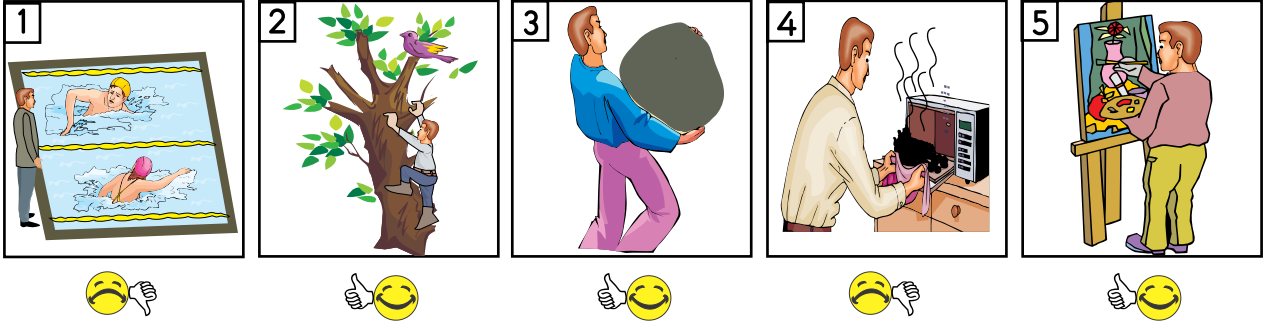
- A) She goes to school.
- B) She has short fair hair.
- C) She likes helping people.
- D) She works in a restaurant.

ÖLÇME, DEĞERLENDİRME VE SINAV HİZMETLERİ GENEL MÜDÜRLÜĞÜ

17, 18, 19 ve 20. soruları kitapçık üzerinde cevaplandırınız.



17.



Bu resimlere göre Mert'in yapabildiklerini ve yapamadıklarını İngilizce cümlelerle yazınız.

1	_____
2	_____
3	_____
4	_____
5	_____


18.


	I	II	T/F
1	It's rainy.	I need my raincoat.	
2	It's cold.	I need my shorts.	
3	It's snowy.	I need my gloves.	
4	It's sunny.	I need my sunglasses.	
5	It's hot.	I need my coat.	

Yukarıda numaralanmış ifadelerde ilk cümle sebep, sonraki cümle sonuç bildirmektedir.


Buna göre, numaralı ifadeleri doğru (T: True) / yanlış (F: False) yönünden değerlendiriniz.

19. Write the seasons.














20. Write the countries and nationalities.

FLAG	COUNTRY	NATIONALITY
	1 - - - -	Italian
	the USA	2 - - - -
	3 - - - -	Egyptian
	India	4 - - - -
	5 - - - -	Japanese



TEST BİTTİ.
CEVAPLARINIZI KONTROL EDİNİZ.

SINAV BAŞLAMADAN AŞAĞIDAKİ UYARILARI MUTLAKA OKUYUNUZ!

1. Öğrenciler, sınav kurallarına ve salon görevlilerinin tüm uyarılarına uymak zorundadırlar.
2. Cevap kâğıdındaki kimlik bilgilerinin doğruluğunu kontrol ediniz. Bilgiler size ait değilse veya cevap kâğıdı kullanılmayacak durumdaysa sınav görevlilerine bildirin.
3. Sınav başladıktan sonra öğrencilerin salon görevlileri ve birbirleri ile konuşmaları, kalem, silgi vb. şeyleri istemeleri yasaktır.
4. Değiştirmek istediğiniz bir cevabı, yumuşak silgiyle cevap kâğıdını yıpratmadan temizce siliniz ve yeni cevabınızı kodlayınız.
5. Cevap kâğıdınızı silinmeyen bir kalemle imzalayınız.
6. Cevaplarınızı, cevap kâğıdındaki ilgili soru numarasını dikkate alarak yuvarlağın dışına taşırmadan kodlayınız.
7. Soru kitapçığının sayfalarını kontrol ediniz, baskı hatası var ise değiştirilmesini sağlayınız.
8. Soru kitapçığı üzerinde yapılp cevap kâğıdına işaretlenmeyen cevaplar değerlendirmeye alınmayacaktır.
9. Soru kitapçığının içindeki boş alanları çözümlerinizi için kullanabilirsiniz.
10. Cevaplamaya istediğiniz sorudan başlayabilirsiniz.
11. Cevabını bilmediğiniz sorular üzerinde fazla zaman kaybetmeden diğer sorulara geçiniz. Zamanınız kalırsa bu sorulara daha sonra dönebilirsiniz.
12. Sınav puanınızın hesaplanmasında 3 yanlış 1 doğru cevabınızı götürecektir. Alt testler bu şekilde hesaplanarak net puanlarının toplamı toplam net puanınızı verecektir.
13. Sınav bitiminde, soru kitapçığı ve cevap kâğıdını salon görevlilerine teslim ediniz.
14. Sınav sırasında sözlük, hesap makinesi, saat fonksiyonu dışında özellikleri bulunan saat veya çağrı cihazı, cep telefonu, telsiz, radyo ve bilgisayar özelliği bulunan elektronik cihazları yanınızda bulundurmanız hâlinde sınavınız geçersiz sayılacaktır.
15. Cevap kâğıdınızı sınav süresince hiçbir öğrencinin göremeyeceği şekilde önünüzde bulundurunuz.
16. Sınavınızın değerlendirilmesi aşamasında, toplu kopya tespiti veya başka adayın sınav evrakını kullanmanız durumunda sınavınız geçersiz sayılacaktır.
17. Soruları ve sorulara verdiğiniz cevapları kaydetmeyiniz, hiçbir şekilde dışarı çıkarmayınız.
18. İlk 15 dakika dışarı çıkılmayacaktır.
19. Sınav evraklarını teslim etmeyenlerin sınavı geçersiz sayılacaktır.

SINAV GÖREVLİLERİNCE SINAV BAŞLAMADAN ÖNCE ÖĞRENCİLERE YAPILACAK SON UYARI!

- Soracağınız bir şey var mı? Varsa, şimdi sorunuz.
- Sınav başladıktan sonra sorularınıza cevap verilmeyecektir.
- Başlama zilini bekleyiniz.

Hepinize başarılar dileriz.

(Sınav görevlisi başlama ve bitiş saatini tahtaya yazacaktır.)

Bu kitapçığın her hakkı saklıdır. Hangi amaçla olursa olsun, kitapçığın tamamının veya bir kısmının Millî Eğitim Bakanlığı Ölçme, Değerlendirme ve Sınav Hizmetleri Genel Müdürlüğünün yazılı izni olmadan kopya edilmesi, fotoğraflarının çekilmesi, bilgisayar ortamına alınması, herhangi bir yolla çoğaltılması, yayımlanması veya başka bir amaçla kullanılması yasaktır. Bu yasağa uymayanlar, doğabilecek cezai sorumluluğu ve kitapçığın hazırlanmasındaki mali külfeti peşinen kabullenmiş sayılır.

**31 MAYIS 2015 TARİHİNDE YAPILAN VEHBİ KOÇ VAKFI
ÖZEL İLKOKULU VE ORTAOKULU SEVİYE TESPİT SINAVI
5. SINIFLAR “B” KİTAPÇIĞI CEVAP ANAHTARI**

TÜRKÇE	MATEMATİK	FEN ve TEKNOLOJİ	SOSYAL BİLGİLER
1. D	1. A	1. D	1. B
2. C	2. B	2. A	2. C
3. B	3. A	3. A	3. D
4. D	4. C	4. A	4. C
5. A	5. B	5. C	5. B
6. C	6. D	6. D	6. C
7. B	7. D	7. D	7. A
8. A	8. C	8. A	8. A
9. C	9. C	9. C	9. D
10. B	10. D	10. A	10. C
11. D	11. A	11. B	11. C
12. C	12. C	12. C	12. D
13. B	13. B	13. D	13. A
14. B	14. B	14. B	14. C
15. A	15. D	15. C	15. D
16. C	16. B	16. B	16. C

İNGİLİZCE

1. C
2. D
3. B
4. D
5. A
6. C
7. D
8. A
9. A
10. C
11. B
12. D
13. A
14. B
15. C
16. A