



2022 ŞUBAT PROVA SINAV SORULARI (1-2. SINIF)



Soru - 1)

120 cm'lik bir kurdele eşit aralıklarla 5 kez kesildiğinde her parça kaç cm olur?

- A) 18cm B)19 cm C) 20cm D) 21cm E)24cm

Soru - 2)


Sayılar belirli bir kurala göre aşağıdaki gibi yazıldığında sıradaki sayı hangisi olur?

1, 2, 3, 4, 5, 1, 2, 3, 4, 5, 1, 2, ...

- A) 1 B) 2 C) 3 D) 4 E) 5

Soru - 3)

Minik köpek Zeus eve en kısa yoldan dönmek istiyor. Ayaklarının ıslanmasını istemeyen Zeus şekilde hangi harf ile gösterilen yolu kullanmalıdır?



- A) A B) B C) C D) D E) E




2022 ŞUBAT PROVA SINAV SORULARI (1-2. SINIF)



Soru - 4)

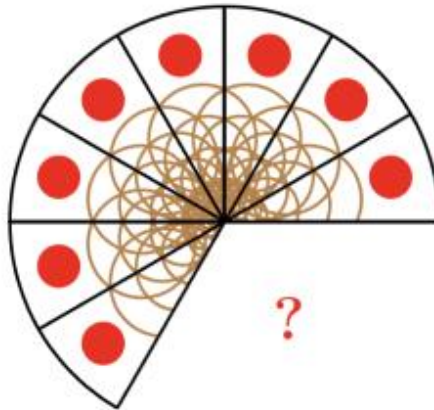
Şekildeki düz çizgi ve noktalı çizginin kaç tane kesişme noktası vardır?



- A) 8 B) 9 C) 10 D) 11 E) 12

Soru - 5)

Yuvarlak bir pizza aşağıda görüldüğü gibi eşit dilimlere ayrılarak bazı dilimleri yenmiştir. Buna göre kaç dilim pizza yenmiştir?



- A) 1 B) 2 C) 3 D) 4 E) 5

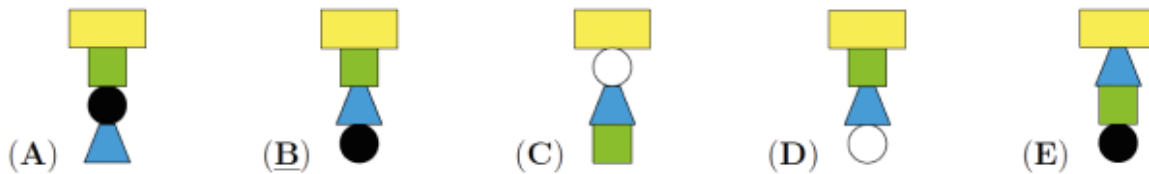
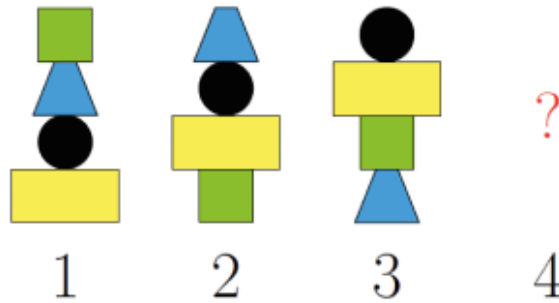
Soru - 6)

Aşağıdaki resimdeki şeklin renkleri ters çevrilirse sonuç seçeneklerden hangisi olur?



Soru - 7)

Emine belirli bir kurala göre kuleler yapıyor. Seçeneklerden hangisi Emine'nin bir sonraki kulesidir?





2022 ŞUBAT PROVA SINAV SORULARI (1-2. SINIF)



Soru - 8)

Adem mağazada tam olarak 19 € ödedi. Hangi banknotları ve madeni paraları kullanmıştır?

- (A)
- (B)
- (C)
- (D)
- (E)

Soru - 9)

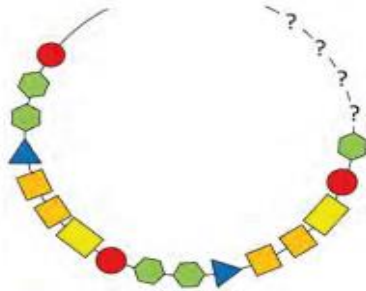
Bir bahçede tek sıra halinde 20 çiçek var. Bu çiçekler sarı, turuncu, kırmızı, sarı turuncu, kırmızı... şeklinde düzenli olarak tekrarlanarak dikilmişlerdir. İlk 6 çiçek resimde gösterilmiştir. Buna göre bu 20 çiçekten kaç tanesi sarıdır?



- A) 3 B) 4 C) 5 D) 6 E) 7

Soru - 10)

Nilay boncukları belirli aralıklarla tekrar eden bileziğini kırmıştır. Bileziğini tamir etmesi için soru işareti ile gösterilen yerlere, boncukları hangi sırayla geri koyması gerekiyor?



- (A)
- (B)
- (C)
- (D)
- (E)



2022 ŞUBAT PROVA SINAV SORULARI (1-2. SINIF)



Soru - 11)

Aşağıda 5 uğur böceği ve üzerlerindeki noktalar gösterilmiştir. Bu uğur böceklerinden bir tanesi uçtuğunda kalan uğur böceklerinin toplam 20 noktası olması için hangi uğur böceği uçmalıdır?



- A) Soldan birinci B) Soldan ikinci C) ortadaki D) Soldan dördüncü E) Soldan beşinci

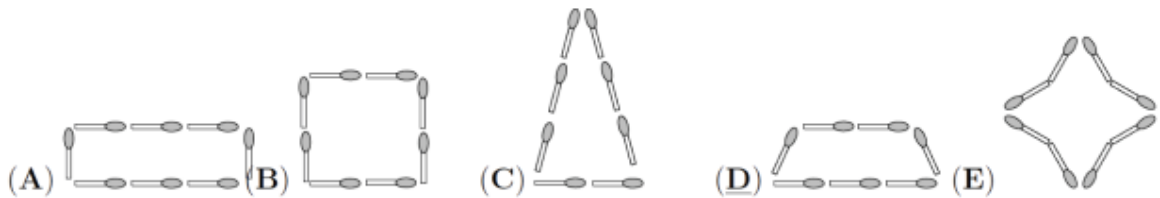
Soru - 12)

Mary'nin üç beyaz topu ve üç siyah topu var ve onlarla bir çizgi yapmak istiyor. Tüm toparla hangi çizgiyi yapamaz?

- (A) ●○●●○○○ (B) ●○●○○○● (C) ●○●○○●●
(D) ●○●○○●● (E) ●●●○○○○

Soru - 13)

Ayşegül, sekiz kibriti farklı desenlerde düzenlemeye çalışır. Aşağıdakilerden Hangisi kesinlikle onun deseni değildir?





2022 ŞUBAT PROVA SINAV SORULARI (1-2. SINIF)



Soru - 14)

Ayşe, Banu, Canan ve Didem kuka oyunu oynamayı çok seviyorlar. Evlerinde bir çok kırmızı ve birçok mavi kukaları var ve bazılarını yan yana sıraya koymak istiyorlar. Ancak bu sıralama içinde bazı kurallar belirliyorlar. Buna göre;

- 1) Soldan üçüncü kuka mavi olmalıdır;
- 2) Bir kuka kırmızıysa ve sağında bir kuka varsa, bu kuka da kırmızı olmalıdır.

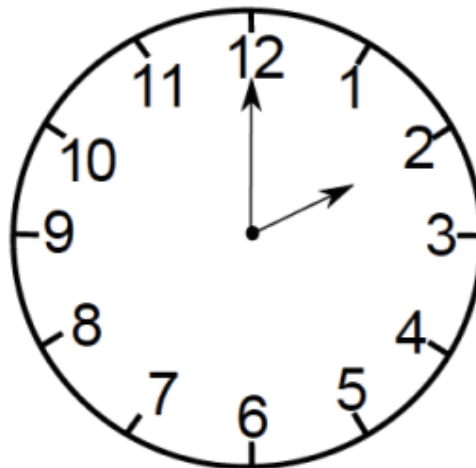
Aşağıda her birinin yaptığı sıralamayı görebilirsiniz. Buna göre kim kurallara uymamıştır?



- A) Sadece Ayşe B) Sadece Banu C) Sadece Canan
D) Sadece Didem E) Hem Banu hem Canan

Soru - 15)

Tom bugün sabah 9'da okula geldi. Resimde gösterilen saatte okuldan ayrıldı. Tom okulda ne kadar kalmıştır?



- A) 2 saat B) 3 saat C) 4 saat D) 5 saat E) 6 saat

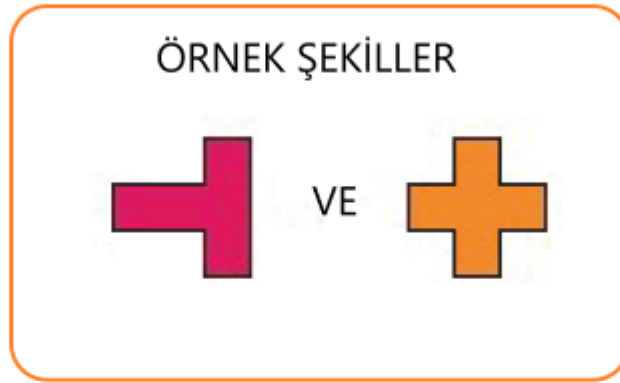


2022 ŞUBAT PROVA SINAV SORULARI (1-2. SINIF)



Soru - 16)

Aşağı 2 adet örnek şekil verilmiştir. Bu şekiller kullanılarak seçeneklerdeki hangi şekil oluşturulamaz?



- (A) (B) (C) (D) (E)



2022 ŞUBAT PROVA SINAV SORULARI (1-2. SINIF)



Soru - 17)

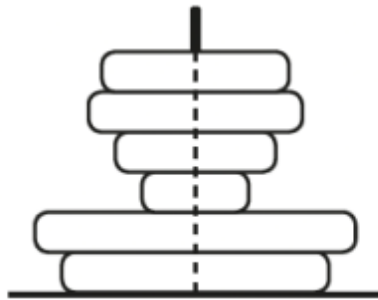
Bu resim çemberler ve üçgenlerle yapılmıştır. Kaç çemberin içinde tam bir üçgen bulunur?



- A) 2 B) 3 C) 4 D) 5 E) 6

Soru - 18)

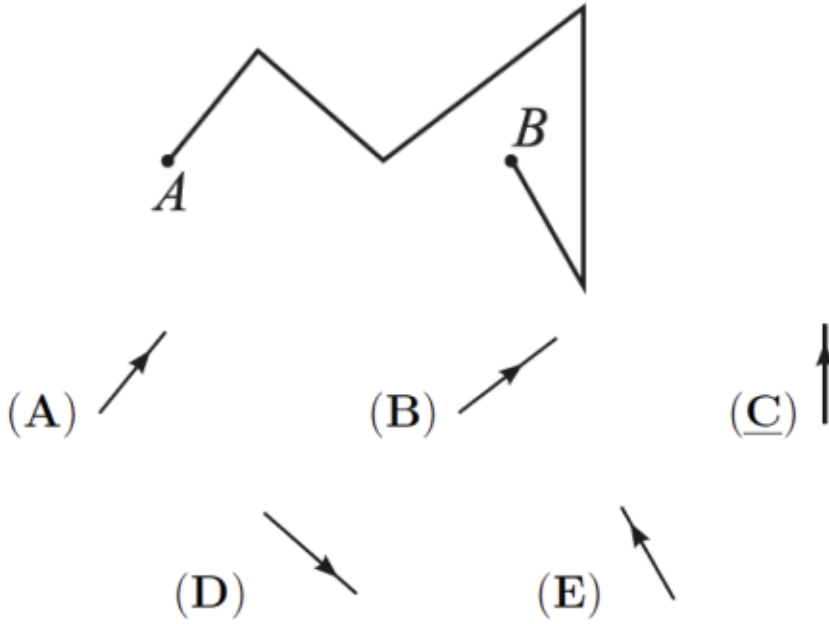
Timur resimde gösterildiği gibi kitaplarını üst üste diziyor. Yukarıdan bakıldığında kitapların kaç tanesini görebilecektir ?



- A) 1 B) 2 C) 3 D) 4 E) 5

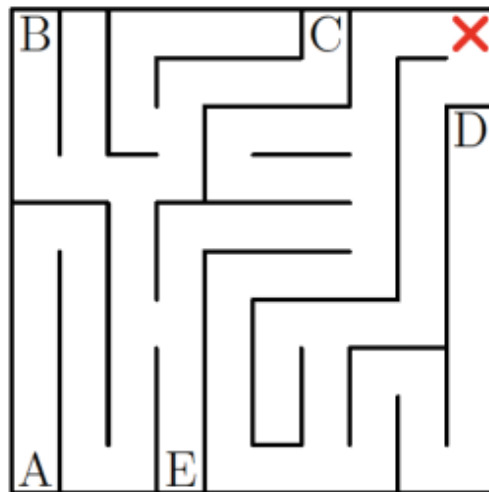
Soru - 19)

Maya, aşağıda gösterildiği gibi bir yol boyunca A'dan B'ye doğru ilerliyor. Buna göre şıklarda verilen hangi yöne doğru hareket etmemiştir?



Soru - 20)

Şekilde kare şeklinde ve yol genişlikleri her yerde aynı olan bir labirent veriliyor. Buna göre verilen hangi harften başlayarak X'e ulaştığınızda gittiğiniz yolun uzunluğu en kısa olur?



- A) A B) B C) C D) D E) E



2022 ŞUBAT PROVA SINAV SORULARI (1-2. SINIF)



Soru - 21)


Bir korsanın iki sandığı vardır. Soldaki sandığa 10 altın, sağdakine ise hiç altın koymamıştır. Yarından itibaren korsan her gün sol sandığa 1 altın, diğer sandığa 2 altın koyacaktır. Kaç gün sonra iki sandıkta da aynı miktarda altın olacaktır?



- A) 5 B) 9 C) 10 D) 12 E) Hiçbir zaman

Soru - 22)

İki parkın da aynı sayıda kanguruya sahip olmasını istiyoruz. Bunu elde etmek için kaç kanguru bir parktan diğerine taşınmalıdır?



- A) 4 B) 5 C) 6 D) 8 E) 9



2022 ŞUBAT PROVA SINAV SORULARI (1-2. SINIF)



Soru - 23)

Meryem 4 kollu yıldız figürleri kesti ve kestiği yıldızları üst üste yapıştırdı. Aşağıdaki şekli elde edebilmek için kaç yıldız kullanmıştır?



- A) 5 B)6 C)7 D) 8 E) 9

Soru - 24)

Leman, 2018 sayısını küçük küplerle şekildeki gibi oluşturuyor. Leman kaç küçük küp kullanmıştır?



- A) 31 B)40 C)41 D) 42 E) 51



2022 ŞUBAT PROVA SINAV SORULARI (1-2. SINIF)



Cevap Anahtarı

1.C 2.C 3.E 4.B 5.D 6.E 7. B 8.D 9.E 10.E 11.B 12.C 13.D 14.D 15.D 16.D 17.C 18.C 19.C 20.E 21.C 22.B 23.D 24.C